



1. Tính :

a)  $4 \times 7 + 222 = \dots\dots\dots$ ; b)  $40 : 5 + 405 = \dots\dots\dots$ ; c)  $200 \times 2 : 2 = \dots\dots\dots$   
 $= \dots\dots\dots$   $= \dots\dots\dots$   $= \dots\dots\dots$

2. Khoanh vào  $\frac{1}{3}$  số con vịt :



3. Mỗi con thỏ có 2 cái tai và 4 cái chân. Hỏi 5 con thỏ có :

- a) Bao nhiêu cái tai ?
- b) Bao nhiêu cái chân ?

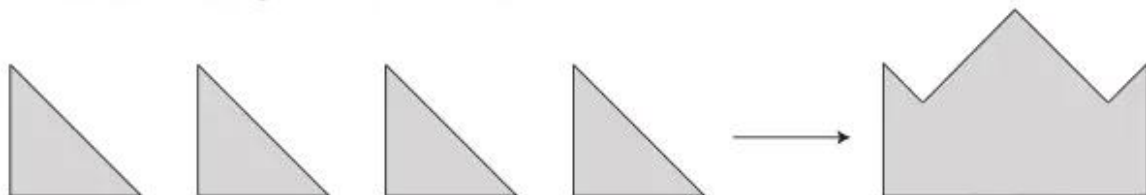


Bài giải

.....  
 .....  
 .....  
 .....

Đáp số : a) .....  
 b) .....

4. Xếp 4 hình tam giác thành hình "cái mũ" :



5. Với các số 2, 4, 8 và dấu  $\times$ ,  $:$ ,  $=$ , em viết được các phép tính đúng là :

.....