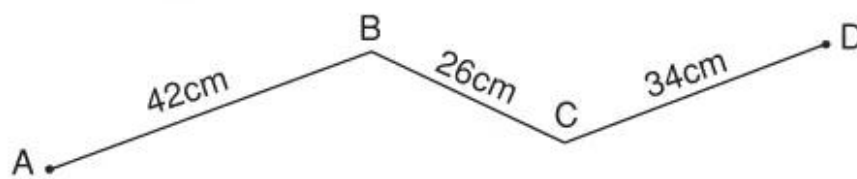


Bài 11 ÔN TẬP VỀ HÌNH HỌC

1. a) Tính độ dài đường gấp khúc ABCD :



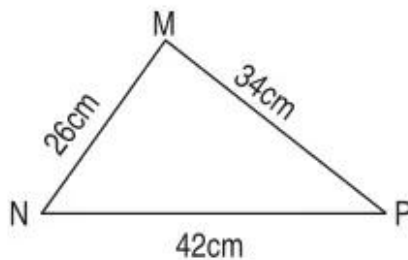
Bài giải

.....

.....

.....

b) Tính chu vi hình tam giác MNP :



Bài giải

.....

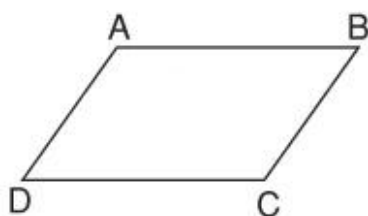
.....

.....

2. Đo độ dài mỗi cạnh rồi tính chu vi :

a) Hình tứ giác ABCD.

Bài giải

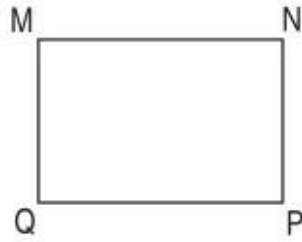


.....

.....

.....

b) Hình chữ nhật MNPQ.



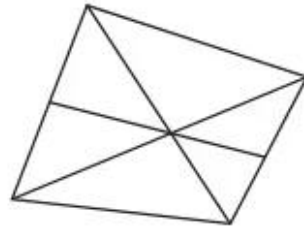
Bài giải

.....
.....
.....

3. Số ?

Trong hình bên có :

- ... hình tam giác.
- ... hình tứ giác.



4. Kẻ thêm một đoạn thẳng vào mỗi hình sau để được :

a) Hai hình tam giác.

b) Ba hình tứ giác.

