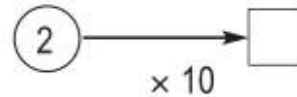
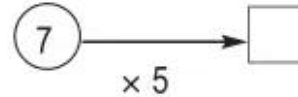
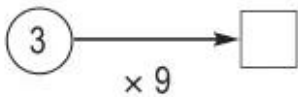
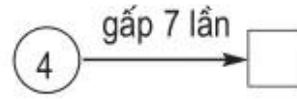
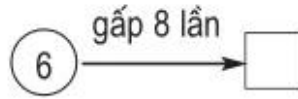
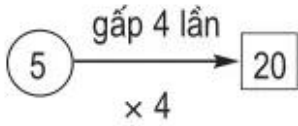


1. Viết (theo mẫu) :



2. Tính :

$$\begin{array}{r} 14 \\ \times 5 \\ \hline \end{array}$$

$$\begin{array}{r} 19 \\ \times 7 \\ \hline \end{array}$$

$$\begin{array}{r} 25 \\ \times 6 \\ \hline \end{array}$$

$$\begin{array}{r} 33 \\ \times 7 \\ \hline \end{array}$$

$$\begin{array}{r} 58 \\ \times 4 \\ \hline \end{array}$$

....

....

....

....

....

3. Trong vườn có 16 cây cam, số cây quýt gấp 4 lần số cây cam. Hỏi trong vườn có bao nhiêu cây quýt ?

*Bài giải*

.....  
 .....  
 .....

4. a) Đo rồi viết số đo độ dài đoạn thẳng AB.



.....

b) Kéo dài đoạn thẳng AB để được đoạn thẳng AC có độ dài gấp đôi độ dài đoạn thẳng AB.

c) Chấm một điểm O trên đoạn thẳng AC, sao cho độ dài đoạn thẳng AO bằng  $\frac{1}{4}$  độ dài đoạn thẳng AC.