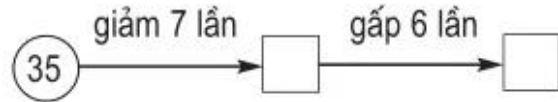
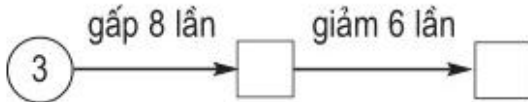
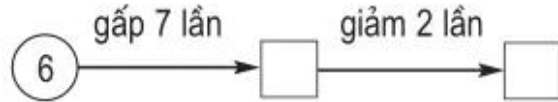
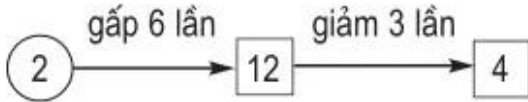


1. Viết số thích hợp vào ô trống (theo mẫu) :




2. Bác Liên có 42 quả gấc, sau khi bán số quả gấc đã giảm đi 7 lần. Hỏi bác Liên còn bao nhiêu quả gấc ?

*Bài giải*

.....  
 .....  
 .....

3. Điền số thích hợp vào chỗ chấm rồi giải bài toán :



Trong hình vẽ bên có . . . quả cam. Hỏi :

a)  $\frac{1}{5}$  số cam đó có bao nhiêu quả ?

b)  $\frac{1}{7}$  số cam đó có bao nhiêu quả ?

*Bài giải*

.....  
 .....  
 .....  
 .....

Đáp số : a) ..... ; b) .....

4. a) Đo rồi viết số đo độ dài đoạn thẳng MN.



.....

b) Chấm một điểm O trên đoạn thẳng MN sao cho độ dài đoạn thẳng ON bằng  $\frac{1}{4}$  độ dài đoạn thẳng MN.