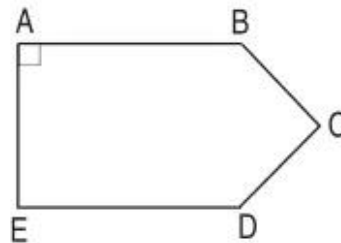


## Bài 40 ————— GÓC VUÔNG, GÓC KHÔNG VUÔNG —————

1. Dùng ê ke để nhận biết góc vuông của hình bên rồi đánh dấu góc vuông (theo mẫu) :



2. Dùng ê ke để vẽ góc vuông có :

a) Đỉnh O ; cạnh OA, OB.

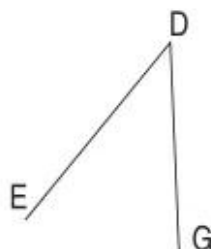
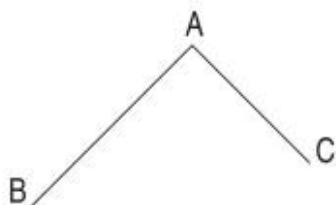
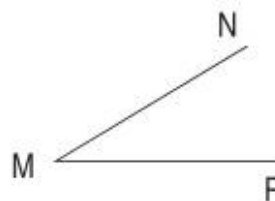
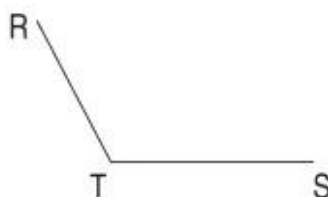
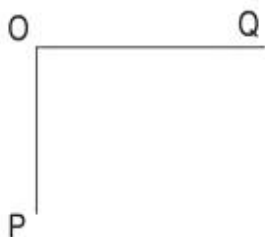
b) Đỉnh M ; cạnh MP, MQ.



B



3. Viết tiếp vào chỗ chấm (theo mẫu) :



Trong các hình trên có :

a) Các góc vuông : Đỉnh O ; cạnh OP, OQ. ....

.....

b) Các góc không vuông : .....

.....

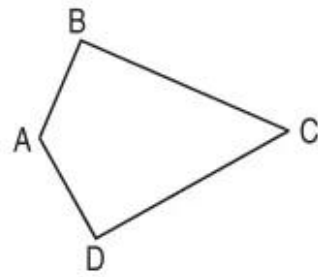
4. Trong hình tứ giác ABCD có :

a) Các góc vuông là : .....

.....

b) Các góc không vuông là : .....

.....



5. Khoanh vào chữ đặt trước câu trả lời đúng.

Số góc vuông trong hình bên là :

- A. 1    B. 2    C. 3    D. 4

