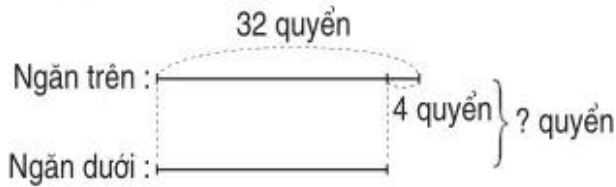


**Bài 48** ————— **BÀI TOÁN GIẢI BẰNG HAI PHÉP TÍNH** —————

1. Ngăn trên có 32 quyển sách, ngăn dưới có ít hơn ngăn trên 4 quyển sách. Hỏi cả hai ngăn có bao nhiêu quyển sách ?

*Bài giải*

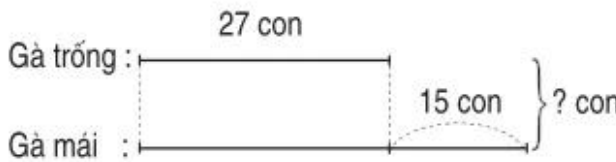
.....  
 .....  
 .....  
 .....




2. Đàn gà có 27 con gà trống, số gà mái nhiều hơn số gà trống là 15 con. Hỏi đàn gà có bao nhiêu con ?

*Bài giải*

.....  
 .....  
 .....  
 .....



3. Lập bài toán theo tóm tắt sau rồi giải bài toán đó :



*Bài toán*

.....  
 .....

*Bài giải*

.....  
 .....  
 .....  
 .....