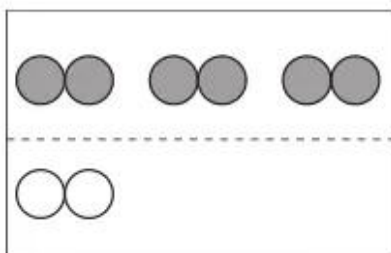
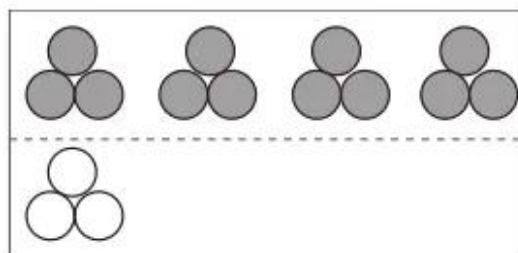


# Bài 55 — SO SÁNH SỐ LỚN GẤP MẤY LẦN SỐ BÉ —

1. Viết tiếp vào chỗ chấm cho thích hợp :



Số hình tròn ở hàng trên gấp ... lần số hình tròn ở hàng dưới.



.....  
 .....

*Bài giải*

.....  
 .....

2. Ngăn trên có 7 quyển sách, ngăn dưới có 21 quyển sách. Hỏi ngăn dưới có số sách gấp mấy lần ngăn trên ?

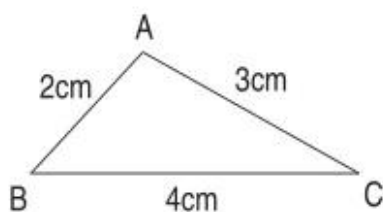
*Bài giải*

.....  
 .....

3. Một con chó cân nặng 15kg, một con thỏ cân nặng 3kg. Hỏi con chó cân nặng gấp mấy lần con thỏ ?

4. Tính :

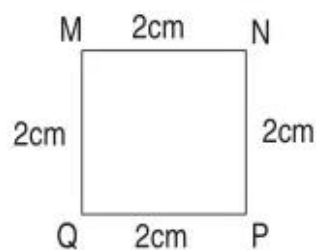
a) Chu vi hình tam giác ABC :



*Bài giải*

.....  
 .....

b) Chu vi hình vuông MNPQ :



*Bài giải*

.....  
 .....