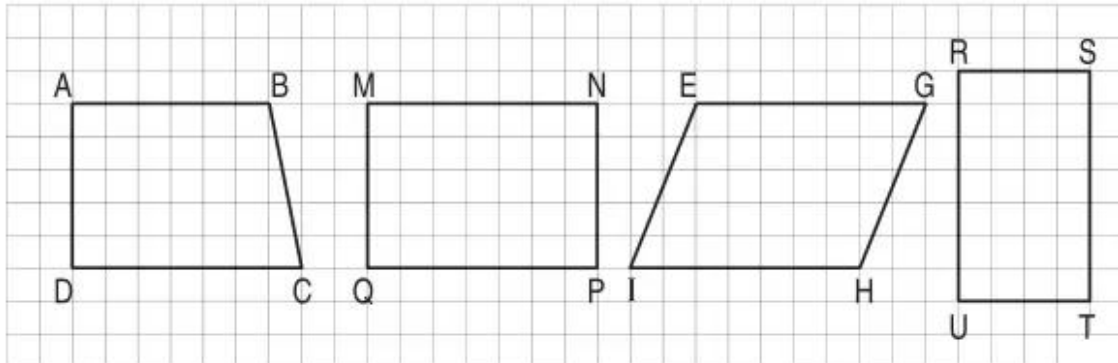


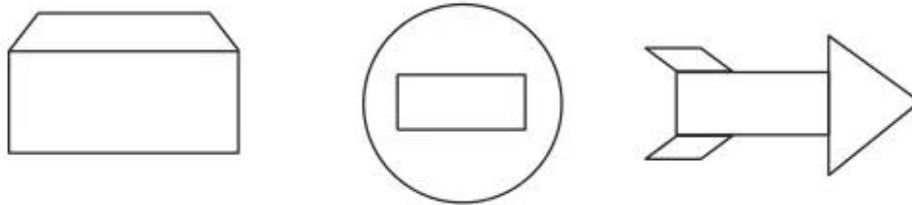
Bài 82 _____ HÌNH CHỮ NHẬT _____

1. Tô màu hình chữ nhật trong các hình sau :

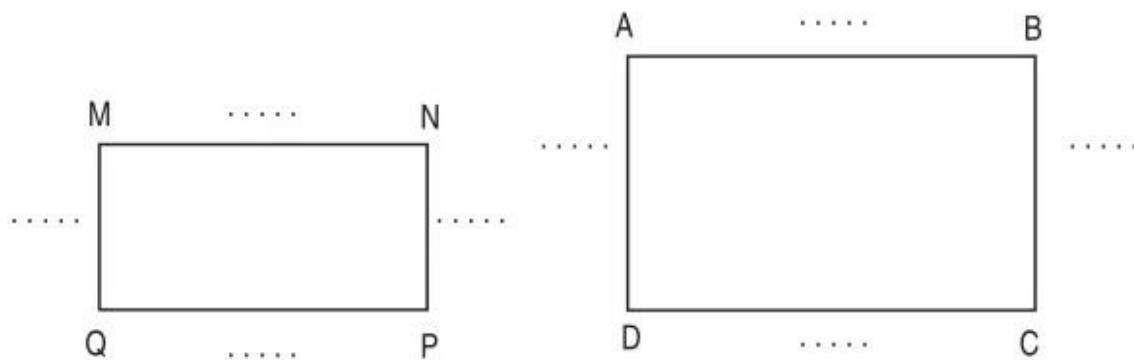
a)



b)



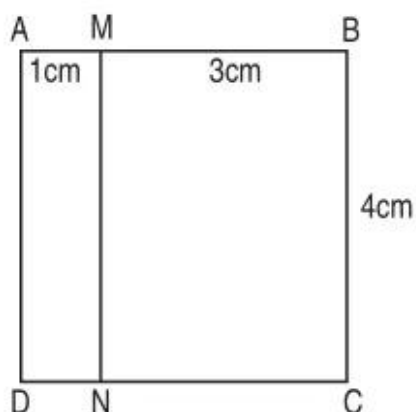
2. a) Đo rồi ghi số đo độ dài các cạnh của hình chữ nhật vào chỗ chấm :



b) Viết tên cạnh thích hợp vào chỗ chấm :

$$MN = \dots; \quad MQ = \dots; \quad AB = \dots; \quad AD = \dots$$

3. Viết tiếp vào chỗ chấm (theo mẫu) :



a) Các hình chữ nhật có trong hình trên là :

AMND ; ;

b) Độ dài các cạnh của mỗi hình chữ nhật là :

- AM = 1cm ; MN = ... ; DN = ... ; AD = ...
- MB = 3cm ; BC = ... ; CN = ... ; MN = ...
- BC = 4cm ; CD = ... ; AD = ... ; AB = ...

4. Kẻ thêm một đoạn thẳng vào mỗi hình sau để được hình chữ nhật :

