

Bài 6

MỘT SỐ VẤN ĐỀ CỦA CHÂU LỤC VÀ KHU VỰC

TIẾT 1. MỘT SỐ VẤN ĐỀ CỦA CHÂU PHI

1. Điều kiện tự nhiên châu Phi có những thuận lợi và khó khăn gì đối với phát triển kinh tế xã hội ? Các nước châu Phi cần có giải pháp gì để khắc phục khó khăn trong quá trình khai thác, bảo vệ tự nhiên ?

a) Thuận lợi và khó khăn đối với phát triển kinh tế xã hội

Thuận lợi.....

.....

.....

.....

Khó khăn.....

.....

.....

.....

b) Các giải pháp khắc phục khó khăn trong khai thác, bảo vệ tự nhiên

.....

.....

.....

.....

2. Phân tích tác động của dân cư và xã hội châu Phi tới sự phát triển kinh tế.

.....

.....

.....

.....

.....

3. Tại sao đa số các nước châu Phi vẫn là những nước nghèo, kinh tế kém phát triển ?

.....

.....

.....

.....

4. Cho bảng số liệu :


TỈ LỆ DÂN SỐ CÁC CHÂU LỤC VÀ THẾ GIỚI QUA MỘT SỐ NĂM

(Đơn vị : %)


Các châu lục	Năm		
	1985	2000	2005
Phi	11,5	12,9	13,8
Mĩ	13,4	14,0	13,7
Á	60,0	60,6	60,6
Âu	14,6	12,0	11,4
Đại Dương	0,5	0,5	0,5
Thế giới	100,0	100,0	100,0

a) Vẽ biểu đồ thể hiện sự thay đổi tỉ lệ dân số giữa các châu lục trên thế giới


THAY ĐỔI TỈ LỆ DÂN SỐ GIỮA CÁC CHÂU LỤC TRÊN THẾ GIỚI



Năm 1985



Năm 2000



Năm 2005

Chú giải :

.....
.....
.....

b) Nhận xét

.....
.....
.....
.....

5. Cho bảng số liệu :

TỐC ĐỘ TĂNG TRƯỞNG GDP CỦA MỘT SỐ NƯỚC (THEO GIÁ SO SÁNH)

(Đơn vị : %)

Quốc gia \ Năm	Năm				
	1985	1990	1995	2000	2004
An giê ri	2,5	3,2	4,0	2,4	5,2
Nam Phi	1,2	0,3	3,1	3,5	3,7
Ga na	5,1	3,3	4,5	3,7	5,2
Công gô	2,6	3,0	0,7	8,2	4,0
Thế giới	3,7	2,9	2,8	4,0	4,1

Nhận xét tốc độ tăng GDP của một số nước ở châu Phi so với thế giới.

.....
.....
.....
.....
.....

.....

.....

.....

.....

6. Đặc điểm nào dưới đây không đúng với châu Phi :

- a. Tỷ suất sinh thô rất cao.
- b. Tỷ suất tử thô cao.
- c. Tỷ suất gia tăng dân số tự nhiên cao.
- d. Tuổi thọ trung bình cao.