

Bài 11

NHẬT BẢN

TIẾT 1. TỰ NHIÊN, DÂN CƯ

1. Điền nội dung vào bảng.

VỊ TRÍ ĐỊA LÍ VÀ ĐIỀU KIỆN TỰ NHIÊN NHẬT BẢN

Tiêu chí	Đặc điểm	Tác động tới phát triển kinh tế
Vị trí địa lí		
Điều kiện tự nhiên		

2. Dựa vào bảng số liệu, nhận xét về xu hướng biến động dân số của Nhật Bản.

BIẾN ĐỘNG CƠ CẤU DÂN SỐ THEO ĐỘ TUỔI

	Năm	1950	1970	1997	2005	2025 (dự báo)
Nhóm tuổi						
Dưới 15 tuổi (%)		35,4	23,9	15,3	13,9	11,7
Từ 15 đến 64 tuổi (%)		59,6	69,0	69,0	66,9	60,1
65 tuổi trở lên (%)		5,0	7,1	15,7	19,2	28,2
Số dân (triệu người)		83,0	104,0	126,0	127,7	117,0

a) Nhận xét về xu hướng biến động dân số theo độ tuổi

nhóm dưới 15 tuổi :

nhóm từ 15 đến 64 tuổi :

nhóm 65 tuổi trở lên :

Kết luận :

b) Nhận xét về sự gia tăng dân số

.....

3. Nêu những thuận lợi và khó khăn về mặt dân cư của Nhật Bản đối với phát triển kinh tế.


Thuận lợi	Khó khăn

4. Dựa vào bảng số liệu, vẽ biểu đồ thể hiện cơ cấu lao động theo khu vực kinh tế qua các năm. Nhận xét.


CƠ CẤU LAO ĐỘNG THEO KHU VỰC KINH TẾ (%)

Khu vực kinh tế	1985	1993	2000
Nông – lâm – ngư nghiệp	8,8	7,1	5,5
Công nghiệp xây dựng	34,3	31,7	30,9
Dịch vụ	56,9	61,2	63,6


a) Vẽ biểu đồ



Năm 1985



Năm 1993



Năm 2000

Chú giải

.....
.....

b) Nhận xét

.....
.....
.....