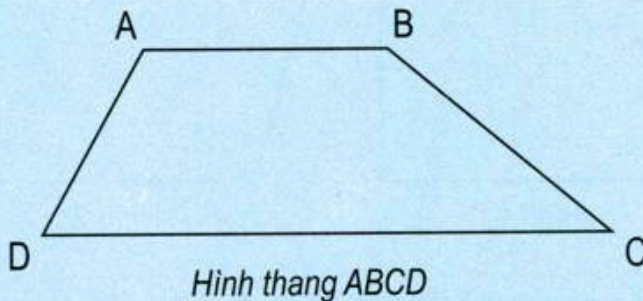




HÌNH THANG



Cái thang

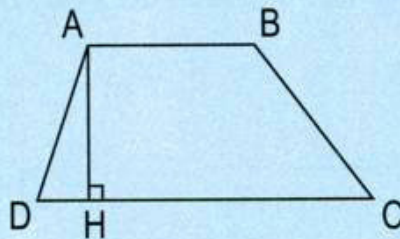


Hình thang ABCD

Hình thang ABCD có :

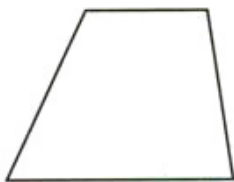
- Cạnh đáy AB và cạnh đáy DC. Cạnh bên AD và cạnh bên BC.
- Hai cạnh đáy là hai cạnh đối diện song song.

Hình thang có một cặp cạnh đối diện song song.

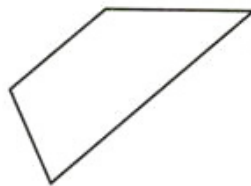


AH là đường cao. Độ dài AH là chiều cao


1 Trong các hình dưới đây, hình nào là hình thang ?



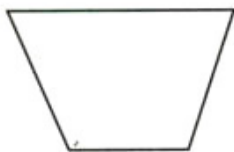
Hình 1



Hình 2




Hình 3



Hình 4




Hình 5




Hình 6

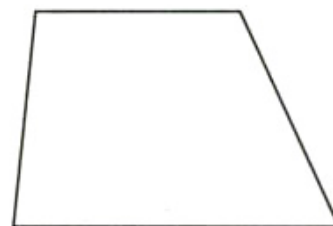
2 Trong ba hình dưới đây, hình nào có :



Hình 1



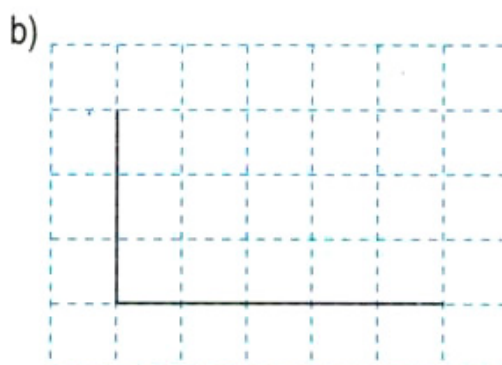
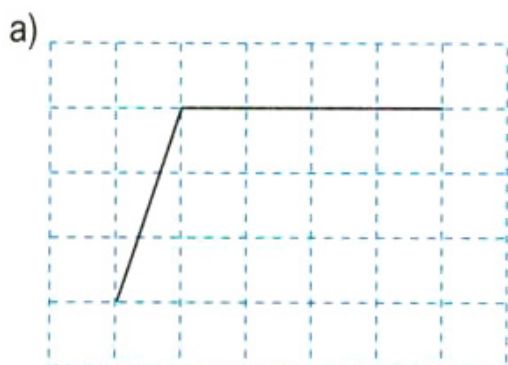
Hình 2



Hình 3

- Bốn cạnh và bốn góc ?
- Hai cặp cạnh đối diện song song ?
- Chỉ có một cặp cạnh đối diện song song ?
- Có bốn góc vuông ?

3 Vẽ thêm hai đoạn thẳng vào mỗi hình dưới đây để được hình thang :



4 Hình thang ABCD có những góc nào là góc vuông ? Cạnh bên nào vuông góc với hai đáy ?

Hình thang có một cạnh bên vuông góc với hai đáy gọi là hình thang vuông.

