

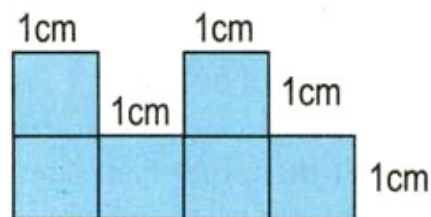


LUYỆN TẬP

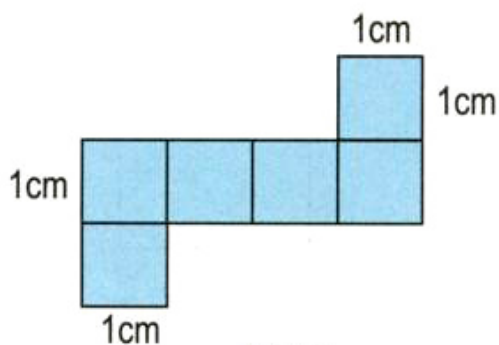
- 1 Tính diện tích xung quanh và diện tích toàn phần của hình lập phương có cạnh 2m 5cm.
- 2 Mảnh bìa nào dưới đây có thể gấp được một hình lập phương ?



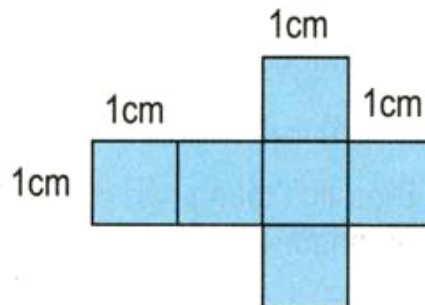
Hình 1



Hình 2

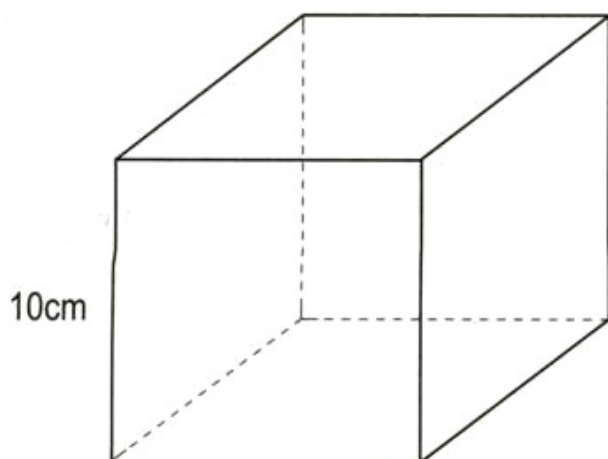


Hình 3

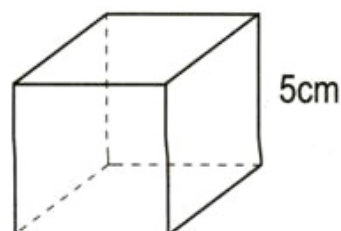


Hình 4

- 3 Đúng ghi Đ, sai ghi S :



A



B

- a) Diện tích xung quanh của hình lập phương A gấp 2 lần diện tích xung quanh của hình lập phương B .
- b) Diện tích xung quanh của hình lập phương A gấp 4 lần diện tích xung quanh của hình lập phương B .
- c) Diện tích toàn phần của hình lập phương A gấp 2 lần diện tích toàn phần của hình lập phương B .
- d) Diện tích toàn phần của hình lập phương A gấp 4 lần diện tích toàn phần của hình lập phương B .