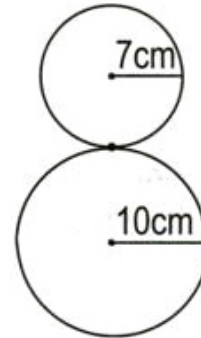
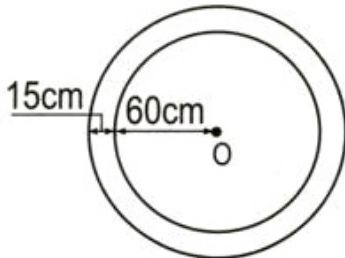




LUYỆN TẬP CHUNG

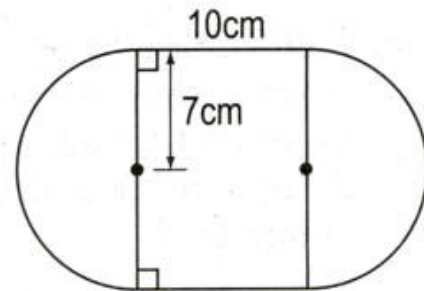
- 1 Một sợi dây thép được uốn như hình bên.
Tính độ dài của sợi dây.



- 2 Hai hình tròn có cùng tâm O như hình bên.
Chu vi hình tròn lớn dài hơn chu vi hình tròn bé
bao nhiêu xăng-ti-mét ?

100

- 3 Hình bên tạo bởi hình chữ nhật và hai nửa
hình tròn (xem hình vẽ).
Tính diện tích hình đó.



- 4 Khoanh vào chữ đặt trước câu trả lời đúng :
Diện tích phần đã tô màu của hình vuông
ABCD là :
- A. $13,76\text{cm}^2$ B. $114,24\text{cm}^2$
C. $50,24\text{cm}^2$ D. $136,96\text{cm}^2$

