

# CHỤC VÀ ĐƠN VỊ

10 khối lập phương  
ghép thành 1 thanh



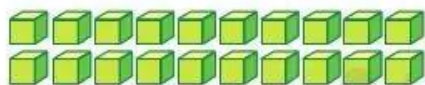
Có 10 khối lập phương.  
Có 1 chục khối lập phương



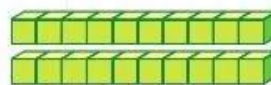
10  
mười



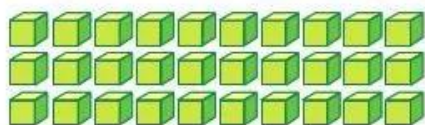
1 chục



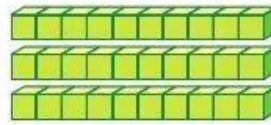
20  
hai mươi



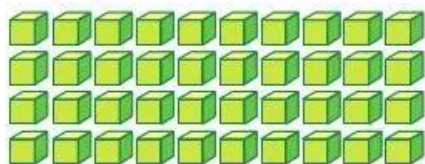
2 chục



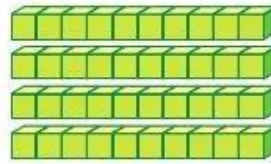
30  
ba mươi



3 chục

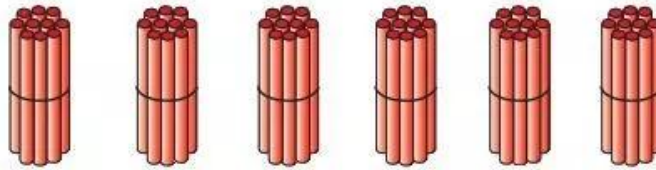


40  
bốn mươi

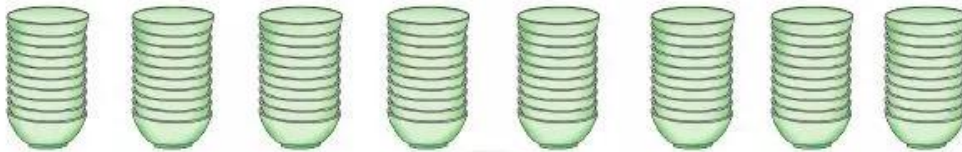


4 chục

1 a) Có mấy chục que tính?



b) Có mấy chục cái bát?



2 Số ?



Các số 10, 20, ..., 90  
là các số tròn chục

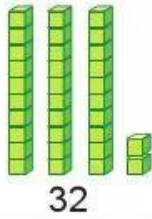


3 Trò chơi "Lấy cho đủ số đồ vật"



**4** Nói (theo mẫu):

Mẫu:

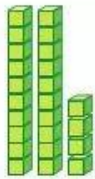


Chục	Đơn vị
3	2

Số 32 gồm 3 chục và 2 đơn vị



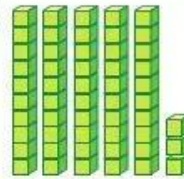
a)



?

Chục	Đơn vị
?	?


b)



?

Chục	Đơn vị
?	?

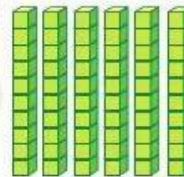
c)



?

Chục	Đơn vị
?	?

d)



?

Chục	Đơn vị
?	?

**5** Trả lời câu hỏi:

- Số 12 gồm mấy chục và mấy đơn vị?
- Số 49 gồm mấy chục và mấy đơn vị?
- Số 80 gồm mấy chục và mấy đơn vị?
- Số 66 gồm mấy chục và mấy đơn vị?

Số 12 gồm 1 chục và 2 đơn vị



**6** Mỗi dây có mấy chục hạt?

