


# LÀM QUEN VỚI PHÉP CỘNG – DẤU CỘNG (tiếp theo)



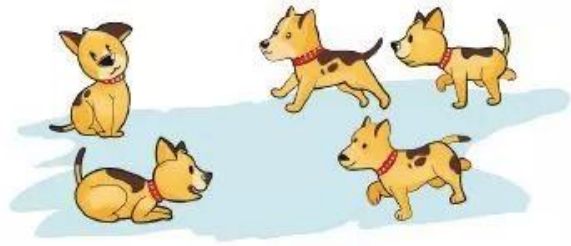
$$4 + 1 = 5$$

Bốn cộng một bằng năm

1 Số ?




$$1 + 1 = \boxed{?}$$



$$2 + 3 = \boxed{?}$$

2 Chọn phép tính thích hợp với mỗi tranh vẽ:



$$2 + 2$$

$$2 + 1$$



3 Xem tranh rồi tập kể chuyện theo mỗi phép tính đã cho:

a)



$$2 + 1 = 3$$

b)



$$4 + 2 = 6$$