


LÀM QUEN VỚI PHÉP CỘNG – DẤU CỘNG



Dấu cộng



$$3 + 2 = 5$$


Ba cộng hai bằng năm



1 Số ?



$$2 + 1 = \boxed{?}$$



$$2 + 2 = \boxed{?}$$

2 Chọn phép tính thích hợp với mỗi tranh vẽ:

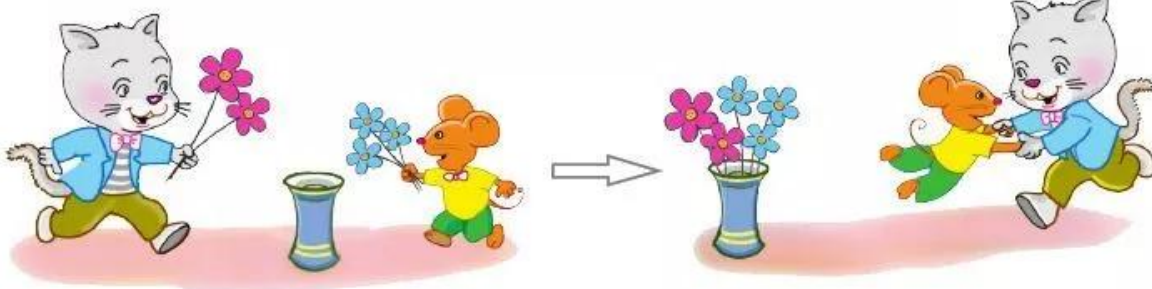


$$3 + 2$$

$$3 + 1$$



3 Xem tranh rồi tập kể chuyện theo phép tính đã cho:



$$2 + 3 = 5$$