

**LỚN HƠN, DẤU >**  
**BÉ HƠN, DẤU <**  
**BẰNG NHAU, DẤU =**



4 1



2 5



3 3

$4 > 1$   
bốn lớn hơn một

 dấu lớn hơn

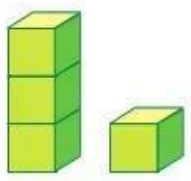
$2 < 5$   
hai bé hơn năm

 dấu bé hơn

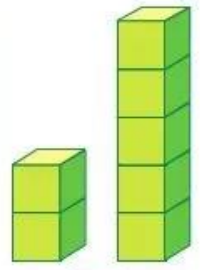
$3 = 3$   
ba bằng ba

 dấu bằng

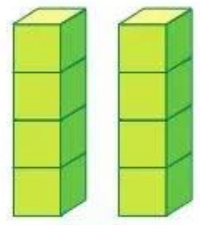
1  ?



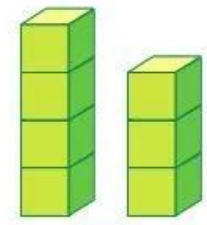
$3 > 1$



2 ? 5



4 ? 4




4 ? 3

2  $\begin{matrix} > \\ < \\ = \end{matrix}$  ?



2 ? 3



3 ? 2



2 ? 2

3 a) Tập viết dấu:



b)  $\begin{matrix} > \\ < \\ = \end{matrix}$  ?

3 ? 5

4 ? 2

4 ? 5

5 ? 5

4 Vật nào ghi số lớn hơn trong mỗi hình vẽ sau?

a)



b)

