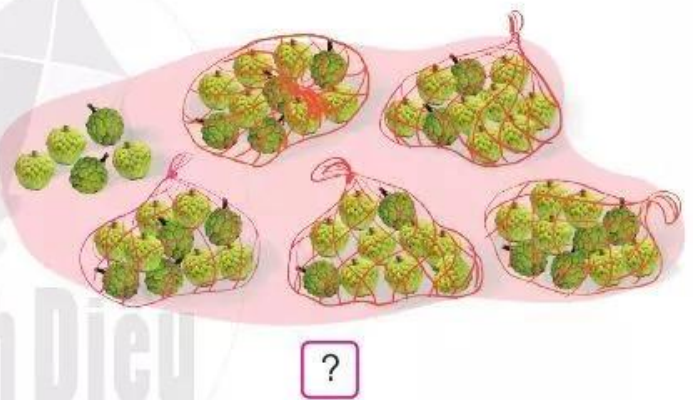
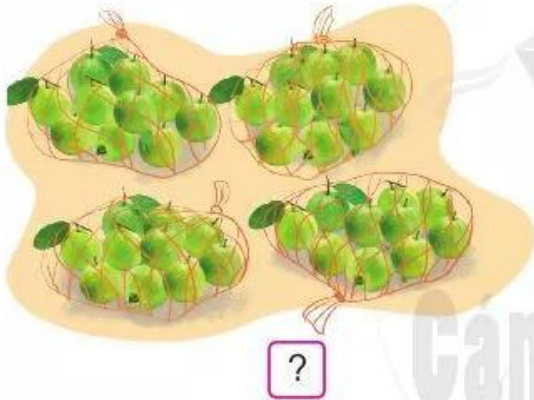
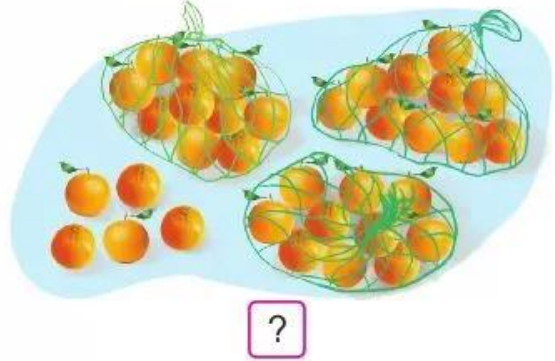
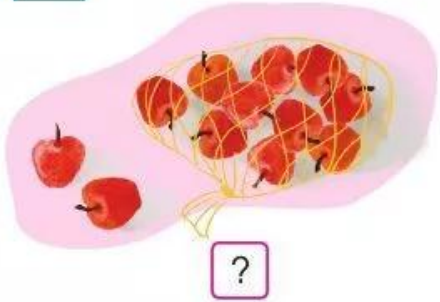


ÔN TẬP CÁC SỐ TRONG PHẠM VI 100

1 Số ?



2 a) Đọc mỗi số sau:



b) Số ?

25 gồm ? chục và ? đơn vị, ta viết $25 = ? + ?$

64 gồm ? chục và ? đơn vị, ta viết $64 = ? + ?$

80 gồm ? chục và ? đơn vị, ta viết $80 = ? + ?$

3 $\begin{array}{|c|} \hline > \\ \hline < \\ \hline = \\ \hline \end{array} ?$

$56 \square ? 8$

$52 \square ? 57$

$83 \square ? 83$

$39 \square ? 44$

$12 \square ? 12$

$47 \square ? 67$

$76 \square ? 23$

$19 \square ? 82$

$7 \square ? 75$


4 Sắp xếp các số sau:



a) Theo thứ tự từ bé đến lớn.

b) Theo thứ tự từ lớn đến bé.

5 a) Em hãy dự đoán trong hình sau có bao nhiêu chiếc cốc:



b) Hãy đếm để kiểm tra dự đoán của mình.