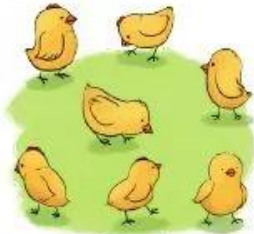


ÔN TẬP


1 Số ?



?



?




?



?



?



?

2 a) $\begin{matrix} > \\ < \\ = \end{matrix}$?

3 ? 8

4 ? 0

10 ? 0

6 ? 6

7 ? 9

9 ? 6

b) Xếp các số sau theo thứ tự từ bé đến lớn:



3 Tính nhẩm:

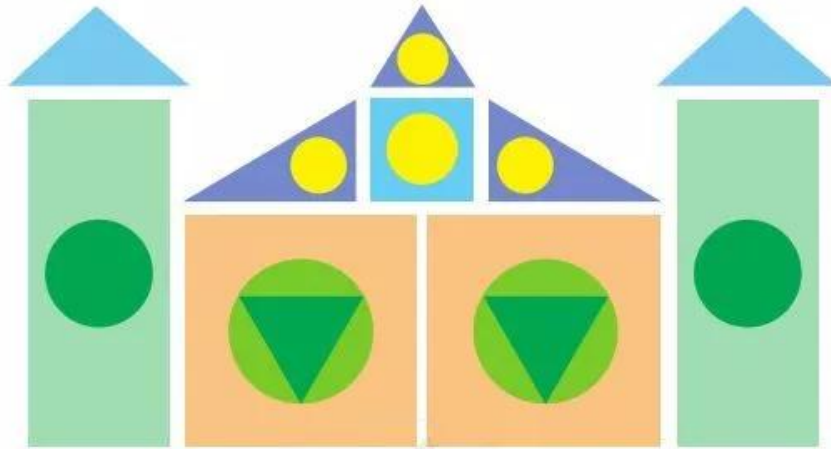
$6 + 3$
 $1 + 8$

$5 + 5$
 $9 + 0$

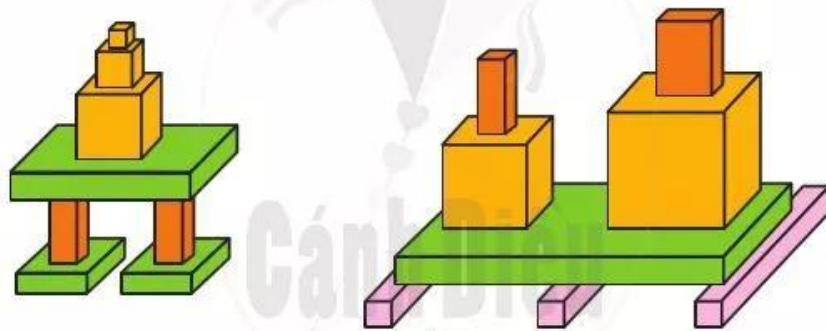
$8 - 2$
 $6 - 6$

$5 - 4$
 $10 - 0$

- 4 a) Hình sau có bao nhiêu hình vuông? Hình tròn? Hình tam giác? Hình chữ nhật?



- b) Mỗi hình sau có bao nhiêu khối hộp chữ nhật? Khối lập phương?



- 5 Nêu phép tính thích hợp với mỗi tranh vẽ:

a)



$$\boxed{?} \boxed{?} \boxed{?} = \boxed{?}$$

b)



$$\boxed{?} \boxed{?} \boxed{?} = \boxed{?}$$