


# PHÉP CỘNG TRONG PHẠM VI 6





$$3 + 1 = 4$$





$$4 + 2 = 6$$

1 Số ?


$$2 + 1 = \boxed{?}$$


$$3 + 2 = \boxed{?}$$


$$1 + 3 = \boxed{?}$$


$$5 + 1 = \boxed{?}$$

2 Tính:

$1 + 1$

$1 + 2$

$1 + 5$

$2 + 2$

$2 + 4$

$3 + 3$

$4 + 1$

$2 + 3$

$1 + 4$

3 Xem tranh rồi nêu phép cộng thích hợp:

a)



$$\boxed{?} + \boxed{?} = \boxed{?}$$

b)

$$\boxed{?} + \boxed{?} = \boxed{?}$$

