

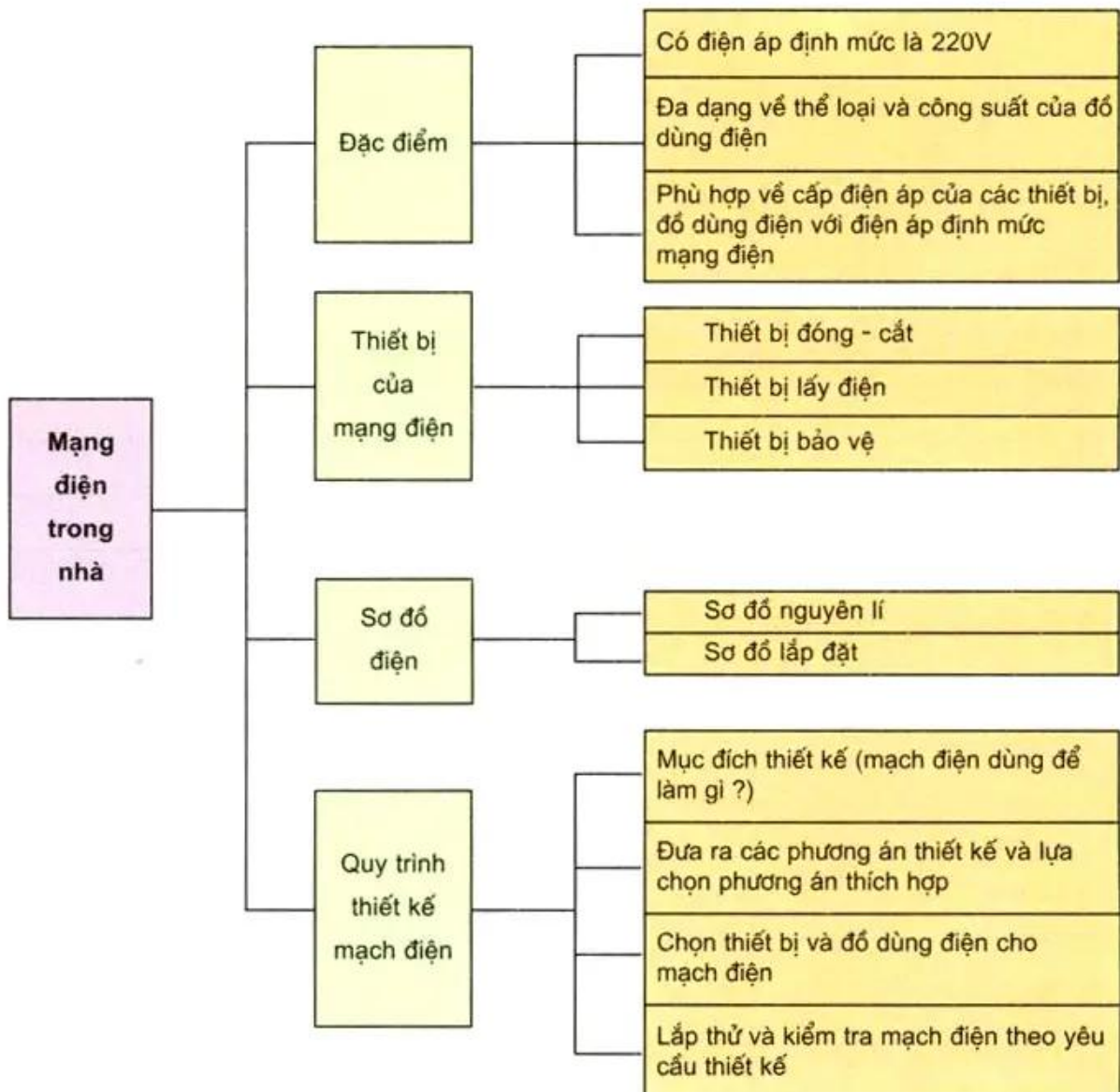


Tổng kết và ôn tập

Chương VIII - Mạng điện trong nhà


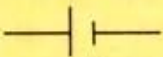



1. Biết hệ thống hoá kiến thức đã học ở chương VIII.
2. Vận dụng những kiến thức đã học để làm bài tập.

Nội dung chương VIII được tóm tắt bằng sơ đồ sau :



âu hỏi và bài tập

1. Hãy điền tên của các kí hiệu điện vào cột B sau :

A	B
	
	
	
	
	

2. Có nên lắp đặt cầu chì vào dây trung tính không ? Tại sao ?
3. Tại sao dây chảy của cầu chì mạch điện nhánh lại có đường kính (cỡ dây) nhỏ hơn dây chảy của cầu chì mạch điện chính ?
4. Một mạch điện được thiết kế theo sơ đồ hình 1 có nguồn điện ~ 220V.
Hãy chọn số liệu điện áp định mức cho các bóng đèn số 1 ; 2 ; 3 phù hợp với mạch điện.