


Bài 2. SỬ DỤNG ĐÈN HỌC

1. Em hãy quan sát chiếc đèn học như trong hình ảnh dưới đây và điền tên các bộ phận chính của đèn học vào bảng theo đúng số thứ tự.



Thứ tự	Tên bộ phận chính
1	
2	
3	
4	
5	
6	

2. Em hãy quan sát các hình ảnh dưới đây và điền tác dụng của chúng vào bảng.



Thứ tự	Tác dụng của các bộ phận
a	
b	
c	
d	
e	
g	

3. Em hãy đánh dấu ✓ vào dưới đây ứng với tác dụng chính của đèn học.

Trang trí góc học tập.

Cung cấp ánh sáng trong quá trình học tập.

Làm mát trong quá trình học tập.

Giúp bảo vệ mắt trong quá trình học tập.

Báo thức.

4. Em hãy quan sát những hình ảnh mô tả các bước thực hành sử dụng đèn học và nối các bước theo thứ tự đúng.



a) Đặt đèn ở vị trí phù hợp.



b) Điều chỉnh độ sáng và hướng chiếu sáng của đèn.



c) Tắt đèn khi không sử dụng.



d) Bật đèn.





Bước
1
2
3
4

Mô tả
a
b
c
d




5. Để tránh mỏi mắt và bị loá khi sử dụng đèn học, các em không nên

.....
.....

6. Em hãy cho biết tại sao những hành động sau đây gây mất an toàn khi sử dụng đèn học.

Thứ tự	Hành động gây mất an toàn	Mô tả lí do
1	 Để ánh sáng đèn chiếu vào mắt.
2	 Chạm vào bóng đèn khi đang sử dụng.
3	 Rút phích cắm điện bằng cách kéo dây nguồn.
4	 Tháo bóng đèn khi không có sự hướng dẫn của người lớn.

7. Em hãy cho biết tên gọi của các loại bóng đèn sử dụng cho đèn học có trong những hình ảnh dưới đây.

		
<p>a)</p> <p>.....</p> <p>.....</p>	<p>b)</p> <p>.....</p> <p>.....</p>	<p>c)</p> <p>.....</p> <p>.....</p>

8. Khi lựa chọn đèn học, em dựa vào những tiêu chí nào sau đây? Hãy đánh dấu ✓ vào cột lựa chọn.

Thứ tự	Tiêu chí lựa chọn đèn học	Lựa chọn
1	Sở thích	
2	Chiều cao đèn	
3	Nhu cầu sử dụng	
4	Độ sáng của bóng đèn	
5	Điều kiện gia đình	

Bài 3. SỬ DỤNG QUẠT ĐIỆN

1. Em hãy đánh dấu ✓ vào dưới đây ứng với tác dụng chính của quạt điện.

Bảo vệ mắt trong quá trình học tập.

Trang trí góc học tập.

Tăng cường ánh sáng trong quá trình học tập.

Tạo gió để làm mát.

Báo thức.

2. Em hãy cho biết tên gọi của các loại quạt điện có trong những hình ảnh dưới đây.



a)



b)



c)



d)