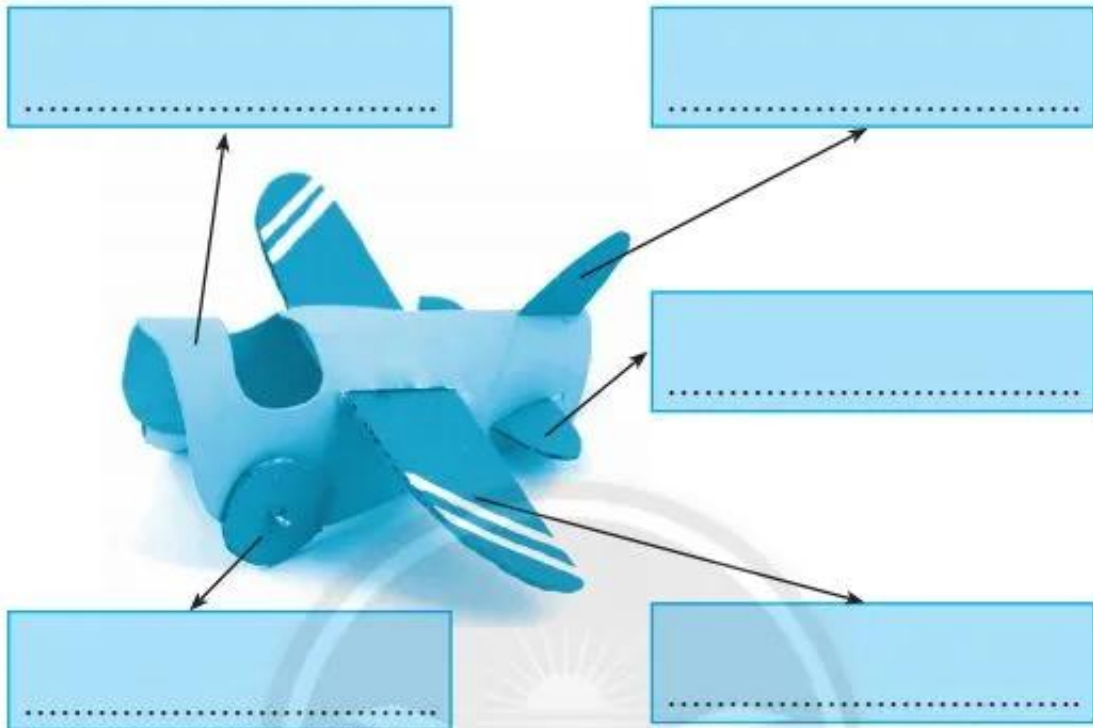


## BÀI 9. LÀM ĐỒ CHƠI

1. Em hãy ghi tên các bộ phận của mô hình máy bay dưới đây.



2. Em chọn những vật liệu nào trong bảng dưới đây để làm mô hình máy bay ở bài tập 1? Hãy đánh dấu ✓ vào cột lựa chọn.

Hình minh họa	Tên vật liệu	Lựa chọn
	Que kem bằng gỗ đã qua sử dụng	
	Giấy bìa đã qua sử dụng	

Hình minh hoạ	Tên vật liệu	Lựa chọn
	Que tre	
	Nhãn dán trang trí	
	Giấy màu thủ công	
	Keo dán giấy	
	Ống giấy, vỏ hộp sữa, vỏ lon nước hoa quả, vỏ chai nước,...	
	Băng dính	

3. Em chọn những dụng cụ nào trong bảng dưới đây để làm mô hình máy bay ở bài tập 1? Hãy đánh dấu ✓ vào cột lựa chọn.


Hình minh hoạ	Tên dụng cụ	Lựa chọn
	Bút chì	
	Thước rập hình tròn	
	Thước kẻ nhựa	
	Bút lông	
	Kéo cắt giấy	

Hình minh hoạ	Tên dụng cụ	Lựa chọn
	Sáp màu	
	Compa	


4. Em hãy cùng bạn mô tả cách thực hiện làm mô hình máy bay theo thứ tự các bước.

Bước	Mô tả
1	..... ..... .....
2	..... ..... .....
3	..... ..... .....
4	..... ..... .....

5. Hãy chọn một đồ chơi có trong những hình ảnh minh họa dưới đây và giới thiệu với bạn tên gọi, cách sử dụng đồ chơi đó.



a



b



c

Em chọn đồ chơi ở hình:.....

Tên món đồ chơi là:.....

Cách chơi như sau:.....

.....

.....

.....

6. Em hãy tính tổng chi phí mua vật liệu để làm một mô hình máy bay bằng giấy bìa cứng như mô tả trong bảng dưới đây.

Vật liệu và dụng cụ	Số lượng	Đơn giá (đồng)	Thành tiền
VD: Giấy bìa cứng	2	2 000 đồng	4 000 đồng
.....	.....	.....	.....
.....	.....	.....	.....
.....	.....	.....	.....
.....	.....	.....	.....
.....	.....	.....	.....
.....	.....	.....	.....
Chi phí khác (băng dính, keo dán, bút màu, vật liệu phụ khác)	.....	.....	.....
<b>Tổng chi phí</b>			.....

7. Em hãy nối nội dung ở cột A và nội dung ở cột B sao cho đúng với quy trình làm một mô hình đồ chơi.

Cột A	Cột B
Bước 1	Tìm hiểu sản phẩm mẫu.
Bước 2	Kiểm tra và hoàn thiện sản phẩm.
Bước 3	Lựa chọn vật liệu, dụng cụ.
Bước 4	Tiến hành làm đồ chơi.
	Vật liệu làm đồ chơi cần thân thiện với môi trường.

8. Hãy chọn một đồ chơi mà em thích để làm và tính toán chi phí vật liệu cho đồ chơi đó (có thể chọn theo các gợi ý dưới đây).



## ÔN TẬP PHẦN 2

1. Em hãy nêu tên của các biển báo giao thông dưới đây.



a. ....

.....

b. ....

.....

c. ....

.....

d. ....

.....

e. ....

.....

g. ....

.....