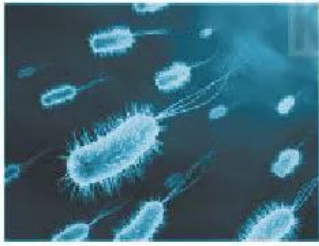
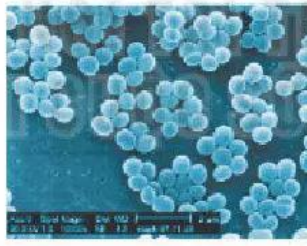


BÀI 27. VI KHUẨN

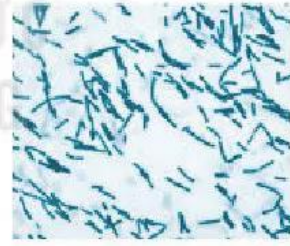
27.1. Dựa vào hình dạng, vi khuẩn có thể chia làm mấy nhóm? Hãy sắp xếp các vi khuẩn trong Hình 27 vào các nhóm hình dạng cho phù hợp.



a) *E. coli*



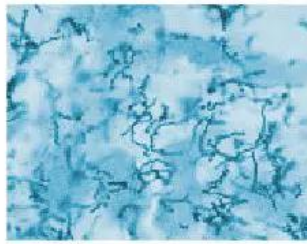
b) *Staphylococcus aureus*



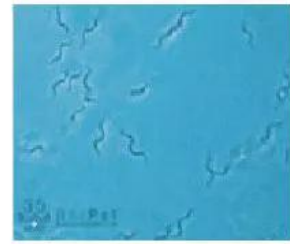
c) *Bacillus subtilis*



d) *Streptococcus faecalis*



e) *Treponema pallidum*



g) *Brachyspira hyodysenteriae*

Hình 27

27.2. Vi khuẩn có ở đâu?

- Trong không khí.
- Trong nước.
- Trong đất.
- Trong cơ thể sinh vật.
- Ở những nơi cực nóng hoặc cực lạnh.

27.3. Phát biểu nào dưới đây **không** đúng khi nói về vai trò của vi khuẩn?

- A. Nhiều vi khuẩn có ích được sử dụng trong nông nghiệp và công nghiệp chế biến.
- B. Vi khuẩn được sử dụng trong sản xuất vaccine và thuốc kháng sinh.
- C. Mọi vi khuẩn đều có lợi cho tự nhiên và đời sống con người.
- D. Vi khuẩn giúp phân huỷ các chất hữu cơ thành các chất vô cơ để cây sử dụng.

27.4. Vi khuẩn có ở khắp mọi nơi, có loài có lợi nhưng cũng không ít loài có hại gây bệnh cho con người. Em hãy kể tên một số bệnh do vi khuẩn gây ra ở người và đưa ra biện pháp phòng tránh các bệnh đó.

27.5. Có nhiều cách để bảo quản thực phẩm được lâu, trong đó có biện pháp phơi hoặc sấy khô thực phẩm. Bằng kiến thức đã học, em hãy giải thích cơ sở của biện pháp bảo quản trên. Nêu các biện pháp bảo quản khác mà em biết.