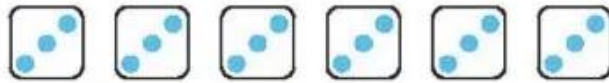


BÀI 37

PHÉP NHÂN

Tiết 1

1



- a) Số ?
- $3 + 3 + 3 + 3 = \square$
 - $3 + 3 + 3 + 3 + 3 = \square$
 - $3 \times 4 = \square$
 - $3 \times \square = \square$
 - $3 + 3 + 3 = \square$
 - $3 + 3 + 3 + 3 + 3 + 3 = \square$
 - $3 \times \square = \square$
 - $3 \times \square = \square$

b) Viết vào chỗ chấm (theo mẫu).

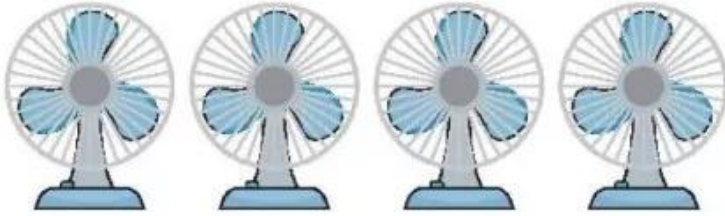
Mẫu: $3 \times 4 = 3 + 3 + 3 + 3 = 12$. Vậy $3 \times 4 = 12$.

- $3 \times 7 = \dots\dots\dots$ Vậy $3 \times 7 = \dots\dots\dots$
- $3 \times 8 = \dots\dots\dots$ Vậy $3 \times 8 = \dots\dots\dots$

2 Nói (theo mẫu).



Số ?



Bài giải

Số cánh quạt có tất cả là:

$$3 \times \square = \square \text{ (cánh quạt)}$$

Đáp số: \square cánh quạt.

Tiết 2



1 a) Viết phép cộng các số hạng bằng nhau thành phép nhân (theo mẫu).

Phép cộng	Phép nhân
$2 + 2 + 2 + 2 = 8$	$2 \times 4 = 8$
$2 + 2 + 2 + 2 + 2 + 2 = 12$	
$2 + 2 + 2 + 2 + 2 + 2 + 2 + 2 = 16$	




b) Viết phép nhân thành phép cộng các số hạng bằng nhau (theo mẫu).

Phép nhân	Phép cộng
$2 \times 5 = 10$	$2 + 2 + 2 + 2 + 2 = 10$
$3 \times 6 = 18$	
$4 \times 5 = 20$	

2 Nói (theo mẫu).

Tìm số chân của mỗi nhóm các con vật.



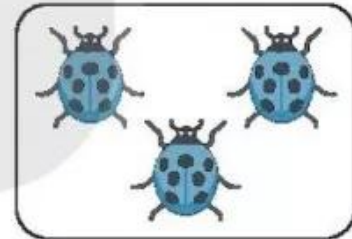

$$6 \times 3 = 18$$

$$8 \times 2 = 16$$

$$6 \times 4 = 24$$

$$4 \times 6 = 24$$

$$2 \times 5 = 10$$



3 Tính (theo mẫu).

Mẫu: $3 \times 4 = 3 + 3 + 3 + 3 = 12$. Vậy $3 \times 4 = 12$.

a) $5 \times 3 = \dots\dots\dots = \dots\dots$ Vậy $5 \times 3 = \dots\dots$

b) $3 \times 5 = \dots\dots\dots = \dots\dots$ Vậy $3 \times 5 = \dots\dots$

c) $6 \times 3 = \dots\dots\dots = \dots\dots$ Vậy $6 \times 3 = \dots\dots$

4 Số ?

Mỗi con bọ rùa có 6 chân. Hỏi 3 con bọ rùa có bao nhiêu chân?

Bài giải

Số chân của 3 con bọ rùa có là:

$$\square \times 3 = \square \text{ (chân).}$$

Đáp số: \square chân.