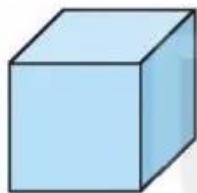


BÀI 46

KHỐI TRỤ, KHỐI CẦU

Tiết 1

1 Khoanh màu đỏ vào chữ đặt dưới khối trụ, màu xanh vào chữ đặt dưới khối cầu.



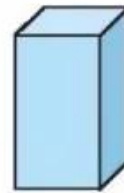
A



B



C



D

2 Nói (theo mẫu).



Khối cầu



Khối trụ





3 Người ta làm những chú hề bằng gỗ, ở đó có những khối gỗ dạng khối cầu. Em hãy quan sát hình vẽ rồi viết số thích hợp vào ô trống.

a) 1 chú hề như vậy có khối gỗ dạng khối cầu.

b) 5 chú hề như vậy có khối gỗ dạng khối cầu.

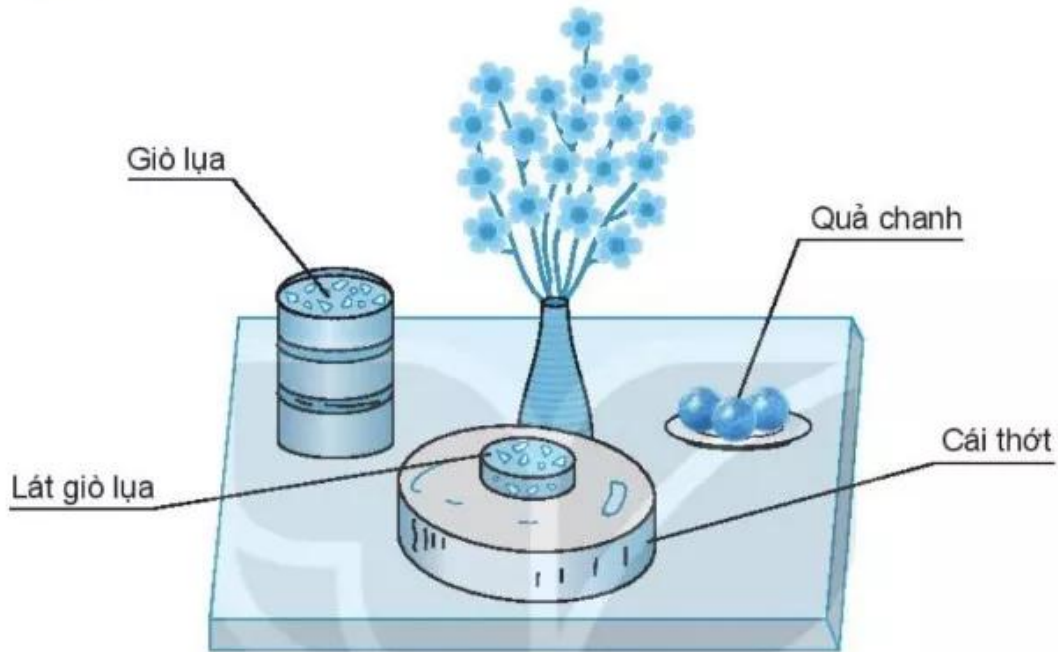


4 Trong bức tranh, tất cả các rô-bốt đều có thân dạng khối cầu hoặc khối trụ. Em hãy tô màu xanh cho rô-bốt có thân dạng khối cầu và màu đỏ cho rô-bốt có thân dạng khối trụ.



Tiết 2

1 Số ?

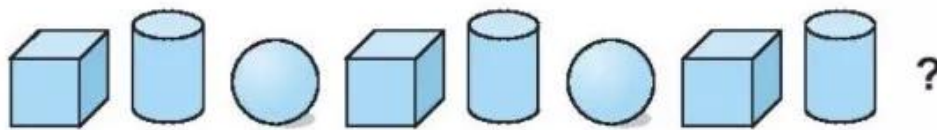


Trong hình trên:

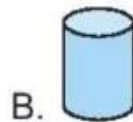
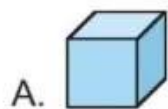
a) Có vật có dạng khối trụ.

b) Có vật có dạng khối cầu.

2 Khoanh vào chữ đặt trước câu trả lời đúng.

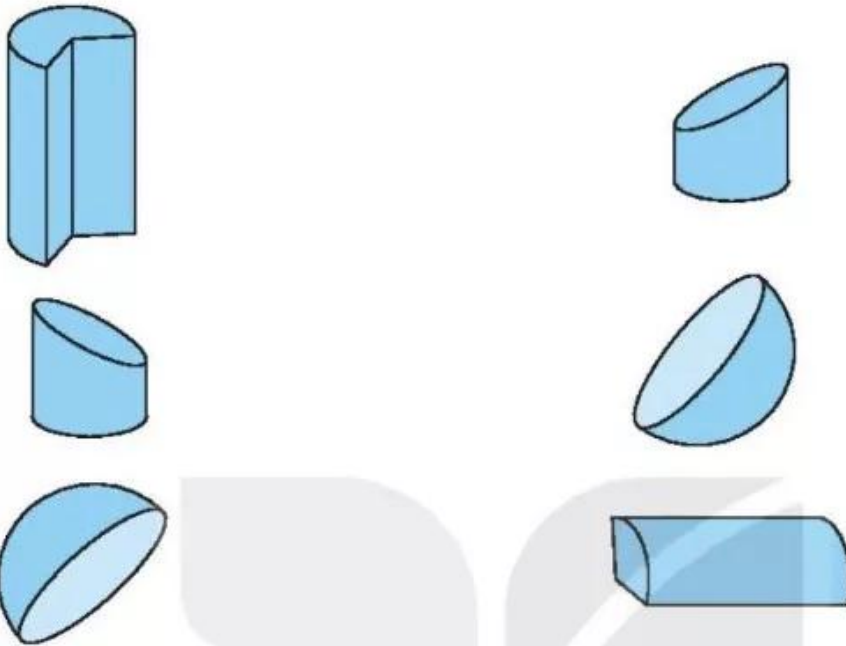


Hình thích hợp đặt vào dấu "?" là:





3 Nối hai hình để ghép thành một khối cầu hoặc một khối trụ.



4 Số ?

Xếp các hộp có dạng khối trụ thành các hình theo cách sau:



Tính từ trái sang phải:

a) • Hình thứ ba có khối trụ;

• Hình thứ tư có khối trụ.

b) Để xếp được hình thứ năm theo cách trên thì cần hộp.