


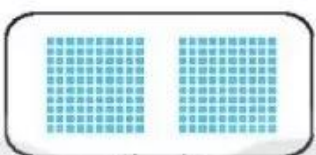

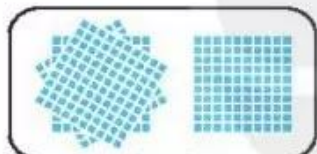

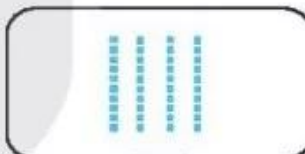


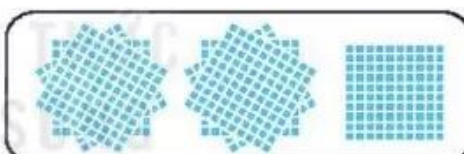
BÀI 48

ĐƠN VỊ, CHỤC, TRĂM, NGHÌN

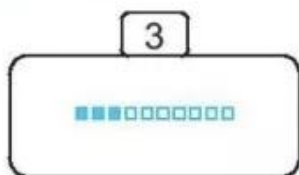
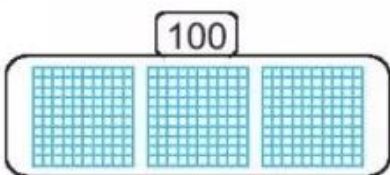
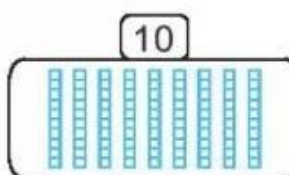
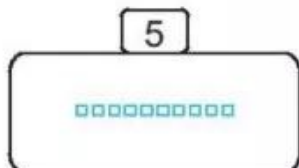
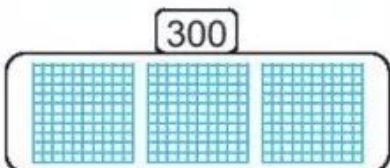
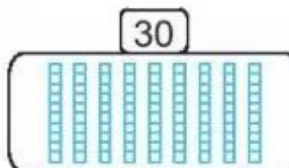
Tiết 1

1 Số ?



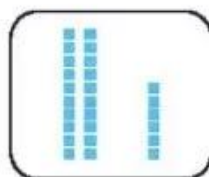
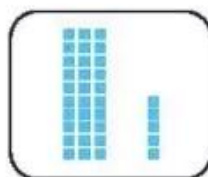
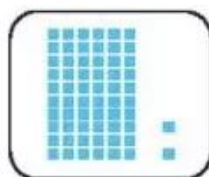
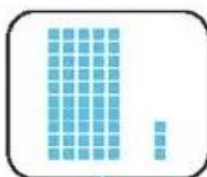
 20		
		
		

2 Tô màu các ô vuông (theo mẫu).

 3	 100	 10
 5	 300	 30



3 Nói (theo mẫu).



35

26


53

62

Tiết 2

1 Mỗi khay bánh có 10 chiếc bánh. Vẽ thêm khay và bánh cho đủ:

a) 30 chiếc bánh.



b) 50 chiếc bánh.



2 Mỗi túi đựng 100 đồng xu. Khoanh vào số túi để được:

a) 500 đồng xu.



b) 1 000 đồng xu.



3 Số ?

a) Số 20 gồm chục và đơn vị.

b) Số 54 gồm chục và đơn vị.

c) Số 45 gồm chục và đơn vị.

d) Số 100 gồm trăm, chục và đơn vị.

4 Viết số thích hợp vào chỗ chấm.

Trong siêu thị có bán các thùng táo, mỗi thùng đựng 100 quả táo và các túi táo, mỗi túi đựng 10 quả táo.

a) Buổi sáng, một trường học đã mua 4 thùng táo ở siêu thị. Vậy trường học đã mua quả táo ở siêu thị vào buổi sáng.

b) Buổi chiều, bố của Nam đã mua 5 túi táo ở siêu thị để làm quà biếu ông bà. Vậy bố của Nam đã mua quả táo ở siêu thị vào buổi chiều.