

# BÀI 50

## SO SÁNH CÁC SỐ TRÒN TRĂM, TRÒN CHỤC

### Tiết 1

1  $>$ ;  $<$ ;  $=$  ?

$400 \square 450$

$700 \square 300$

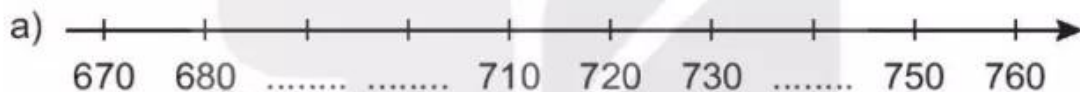
$790 \square 800$

$370 \square 340$

$990 \square 1\ 000$

$90 \square 40 + 50$

2 Viết số thích hợp vào chỗ chấm.



b) Trong các số em vừa viết ở câu a, số lớn nhất là .....; số bé nhất là .....

3 Khoanh vào chữ đặt trước câu đúng.

Có hai đội thu hoạch cà chua. Đội Một gồm các bạn Mai, Việt, Nam và Mi, thu hoạch được tất cả 230 quả cà chua. Đội Hai chỉ có Rô-bốt, thu hoạch được 320 quả cà chua.

A. Số quả cà chua đội Một thu hoạch được nhiều hơn đội Hai.

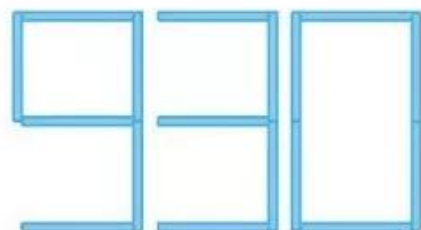
B. Số quả cà chua đội Một thu hoạch được ít hơn đội Hai.

C. Số quả cà chua hai đội thu hoạch được bằng nhau.

4 Viết số thích hợp vào chỗ chấm.

Xếp que tính được số 930 như hình vẽ:

Chuyển chỗ một que tính để được số tròn chục lớn hơn số đã cho. Số tạo được là .....



## Tiết 2

1 Đ, S ?

a)  $400 > 800$

b)  $870 = 780$

c)  $200 < 210$

d)  $560 < 560$

e)  $510 > 490$

g)  $990 > 1\ 000$

2 Viết các số 340, 430, 230, 320 theo thứ tự:

a) Từ bé đến lớn: .....

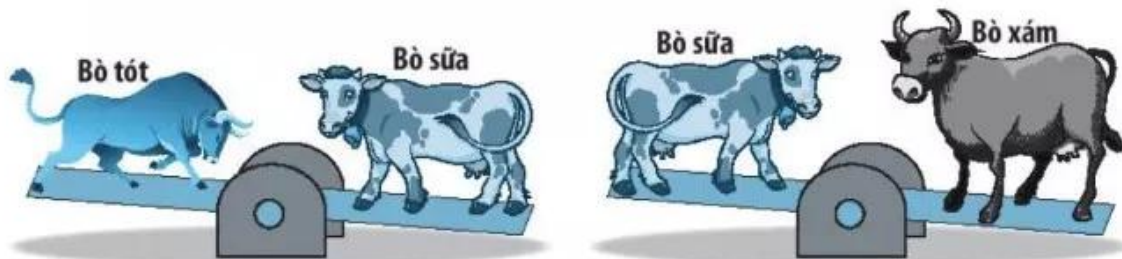
b) Từ lớn đến bé: .....

3 Viết số thích hợp vào chỗ chấm.



Để các toa tàu ghi các số theo thứ tự từ lớn đến bé, em cần đổi chỗ toa tàu ghi số ..... với toa tàu ghi số .....

4 Ba con bò có cân nặng là: 800 kg, 550 kg và 680 kg. Quan sát hình rồi viết số thích hợp vào chỗ chấm.



• Bò xám cân nặng ..... kg;

• Bò sữa cân nặng ..... kg;

• Bò tót cân nặng ..... kg.