

BÀI 59

PHÉP CỘNG (không nhớ) TRONG PHẠM VI 1 000

Tiết 1

1 Tính.

$$\begin{array}{r} 364 \\ + 215 \\ \hline \end{array}$$

.....

$$\begin{array}{r} 643 \\ + 106 \\ \hline \end{array}$$

.....

$$\begin{array}{r} 102 \\ + 95 \\ \hline \end{array}$$

.....

$$\begin{array}{r} 923 \\ + 50 \\ \hline \end{array}$$

.....

2 Đặt tính rồi tính.

$$550 + 145$$

.....

.....

.....

$$287 + 102$$

.....

.....

.....

$$804 + 73$$

.....

.....

.....

$$418 + 80$$

.....

.....

.....

3 Khoanh vào chữ đặt dưới câu trả lời đúng.

Con tàu nào chở nặng hơn?



A



B

4 Nói mỗi phép tính với kết quả của phép tính đó.



$615 + 104$

769



$378 + 20$

719



$440 + 329$

398



Tiết 2

1 Đặt tính rồi tính.

$156 + 240$

.....

.....

.....

$900 + 78$

.....

.....

.....

$803 + 170$

.....

.....

.....

$623 + 44$

.....

.....

.....

$545 + 212$

.....

.....

.....

$312 + 80$


.....

.....

.....


- 2 Buổi sáng voi em uống 105 l nước, voi anh uống nhiều hơn voi em 20 l nước. Hỏi voi anh uống bao nhiêu lít nước vào buổi sáng?

Bài giải



- 3 Vườn thuốc của ông nội bạn Nam trồng 131 cây thuốc. Vườn bên cạnh của bác sĩ Hùng trồng 142 cây thuốc. Hỏi cả hai vườn trồng tất cả bao nhiêu cây thuốc?

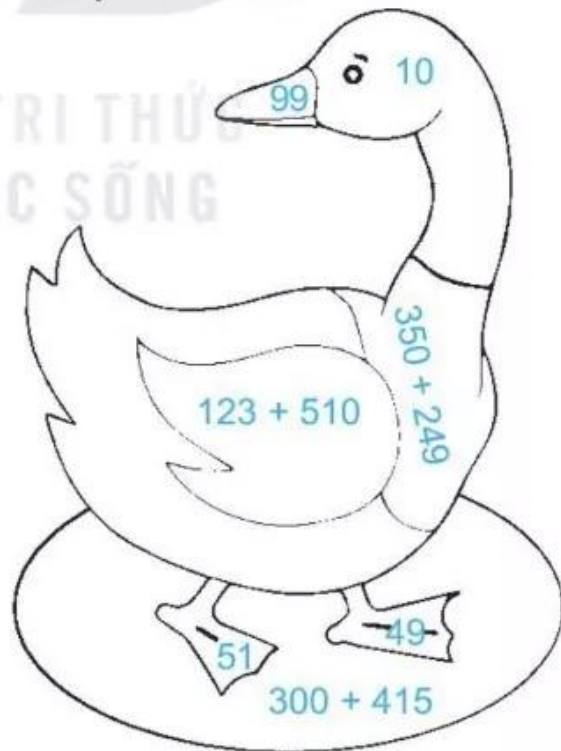
Bài giải



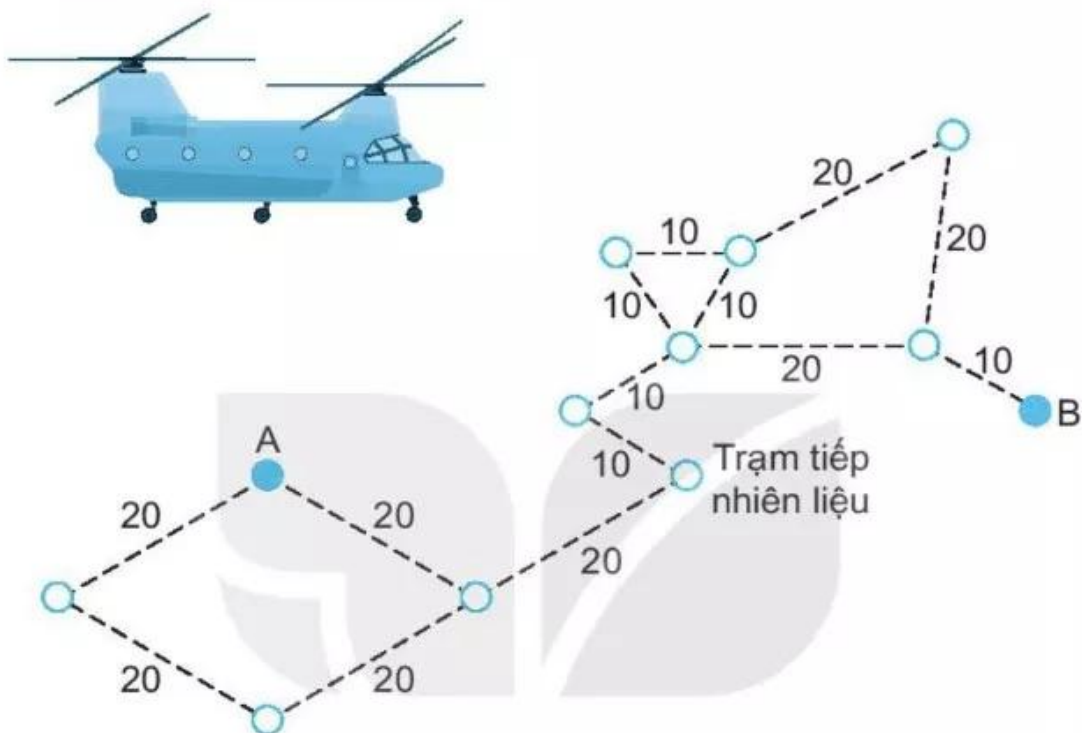
- 4 Em hãy tô màu giúp bé Mi theo các yêu cầu sau:

– Với các số bé hơn 100: Tô màu tím vào nơi chứa số bé nhất, màu vàng vào nơi chứa số lớn nhất và màu da cam vào nơi chứa hai số còn lại.

– Với các phép tính: Tô màu đen vào nơi chứa phép tính có kết quả bé nhất, tô màu xanh vào nơi chứa phép tính có kết quả lớn nhất.



- 5) Trực thăng cần bay từ A đến B qua tất cả các điểm màu trắng, theo những đường nối, nhưng không điểm nào được đi qua quá một lần.



a) Em hãy tô đậm đường đi của trực thăng.

b) Viết số thích hợp vào chỗ chấm.

Trên đường kẻ ghi số là số đo chiều dài các đoạn đường theo ki-lô-mét.

Trực thăng bay từ A đến trạm tiếp nhiên liệu hết tất cả km.