

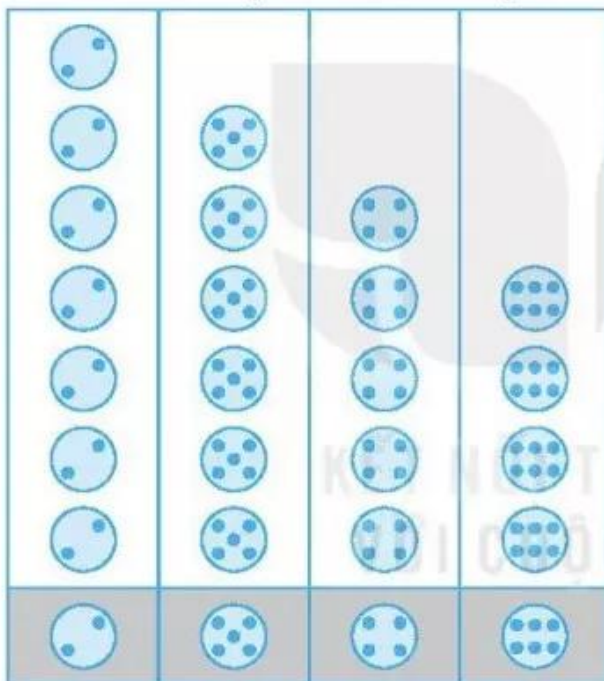
# BÀI 65

# BIỂU ĐỒ TRANH

## Tiết 1

1 Cho biểu đồ:

SỐ HÌNH BẠN NAM VẼ ĐƯỢC



Số ?

a) Mỗi loại có bao nhiêu hình?

có 7 hình

có  hình

có  hình

có  hình

b) Số hình Nam vẽ được tất cả là  hình.

2 Cho biểu đồ:

SỐ HÌNH BẠN MAI CẮT ĐƯỢC

Hình tròn								
Hình tam giác								
Hình vuông								

a) Số ?

- Số hình của ba loại có tất cả là  hình.
- Số hình tròn nhiều hơn số hình tam giác là  hình.

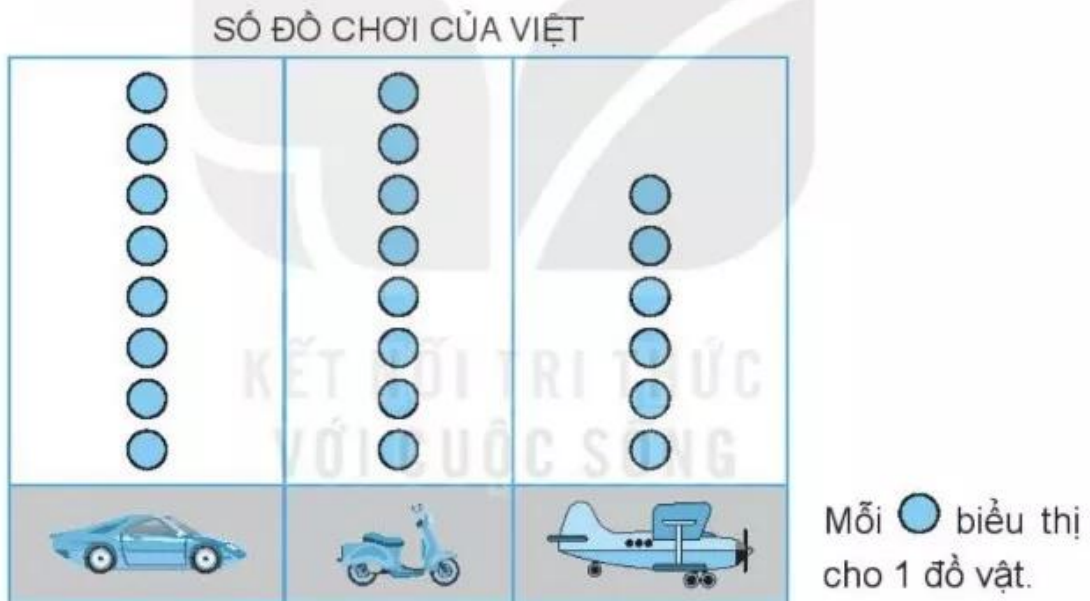
b) Khoanh vào chữ đặt trước câu trả lời đúng.

Trong các hình Mai cắt được, hình nào có số lượng ít nhất?

- A. Hình tròn                      B. Hình vuông                      C. Hình tam giác

## Tiết 2

1 Cho biểu đồ:



a) Số ?

Việt có bao nhiêu đồ chơi mỗi loại?

 :  chiếc     :  chiếc     :  chiếc

b) Khoanh vào chữ đặt trước câu trả lời đúng.




Đồ chơi nào có ít nhất?

- A.                       B.                       C. 

2 Mỗi con thỏ, rùa, sóc biểu thị bằng một chấm tròn (●). Trong khu rừng có 8 con thỏ, 6 con sóc, 5 con rùa.

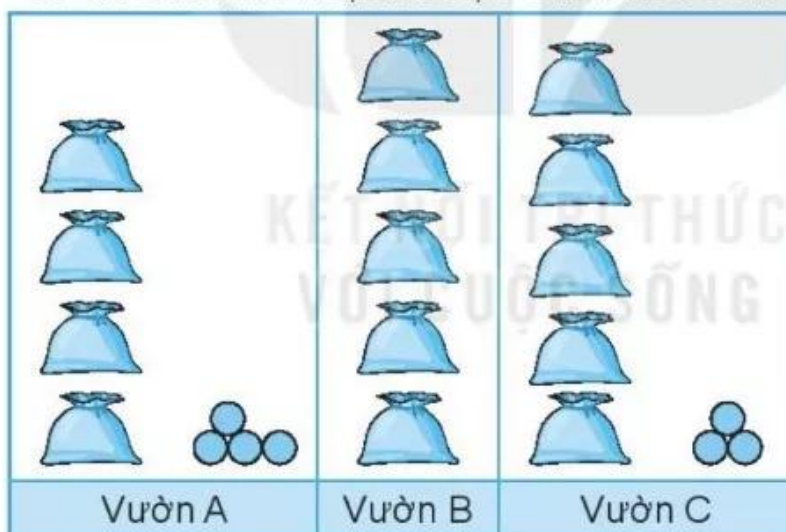
Em hãy vẽ thêm số chấm tròn vào biểu đồ sao cho đủ số các con thỏ, sóc, rùa có trong khu rừng.

SỐ THỎ, RÙA, SÓC TRONG KHU RỪNG

	●	●	●	●	●	●		
	●	●	●	●	●			
	●	●	●	●	●			

3 Cho biểu đồ:

SỐ CÀ CHUA THU HOẠCH ĐƯỢC Ở BA KHU VƯỜN



Mỗi ● biểu thị 1 quả cà chua.

Mỗi  gồm 10 quả cà chua.

Số ?

a) Số quả cà chua thu hoạch được ở mỗi vườn là:

• Vườn A:  quả; • Vườn B:  quả; • Vườn C:  quả.

b) Số quả cà chua ở vườn B nhiều hơn vườn A là  quả.

c) Số quả cà chua ở cả ba khu vườn là  quả.