

BÀI 68

ÔN TẬP CÁC SỐ TRONG PHẠM VI 1 000

Tiết 1

1 Nói (theo mẫu).

Hai trăm linh năm

Hai trăm năm mươi bảy

Tám trăm tám mươi

Bảy trăm bốn mươi lăm

Bốn trăm ba mươi tư

Sáu trăm chín mươi một

257

880

205

434

691

745

2 Số ?

a) 534 535 537 539 541

b) 321 323 325 329 333

c) 842 844 846 850 856

3 >; <; = ?

542 539

856 865

780 784

657 700

349 345

189 201

986 $800 + 98$

99 $100 + 2$

280 $200 + 80$

4) a) Viết các số 796; 887; 769; 901 theo thứ tự từ bé đến lớn:

b) Khoanh vào số lớn nhất trong các số sau:

534

589

499

515

5) Viết chữ số thích hợp vào ô trống.

a) $4\boxed{}5 > 489$

b) $6\boxed{}9 < 611$

c) $57\boxed{} < 57\boxed{} < 572$

d) $9\boxed{}8 > \boxed{}97 > 898$

Tiết 2

1) Cho biết số học sinh ở bốn trường như sau:

- Trường Lê Lợi: 756 học sinh;
- Trường Quang Trung: 819 học sinh;
- Trường Nguyễn Trãi: 831 học sinh;
- Trường Nguyễn Siêu: 745 học sinh.

Viết tiếp vào chỗ chấm cho thích hợp.

a) Trường có ít học sinh nhất.

b) Trường có nhiều học sinh nhất.

c) Tên các trường viết theo thứ tự số học sinh từ bé đến lớn là:

trường → trường

→ trường → trường

2) Viết số thành tổng (theo mẫu).

Mẫu: $257 = 200 + 50 + 7$.

$374 = \dots\dots\dots$

$405 = \dots\dots\dots$



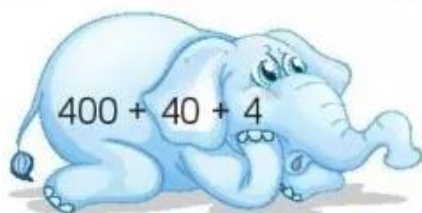
$822 = \dots\dots\dots$

$680 = \dots\dots\dots$

$555 = \dots\dots\dots$

$996 = \dots\dots\dots$

3 Nói con voi với thùng nước thích hợp (theo mẫu).



4 Số ?

a) $300 + \square = 350$

b) $800 + 40 + \square = 843$

5 Viết tiếp vào chỗ chấm cho thích hợp.



a) Các số có ba chữ số lập được từ ba thẻ số trên là:

.....

b) Tổng của số lớn nhất và số bé nhất trong các số lập được ở câu a là:

BÀI 69

ÔN TẬP PHÉP CỘNG, PHÉP TRỪ TRONG PHẠM VI 100

Tiết 1

1 Tính nhẩm.

a) $50 + 30 = \dots$

$80 - 50 = \dots$

$80 - 30 = \dots$

b) $70 + 30 = \dots$

$100 - 70 = \dots$

$100 - 30 = \dots$

c) $50 + 50 = \dots$

$90 - 30 = \dots$

$100 - 60 = \dots$

2 Đặt tính rồi tính.

a) $48 + 6$

.....

.....

.....

$25 + 69$

.....

.....

.....

$56 + 37$

.....

.....

.....

b) $62 - 8$

.....

.....

.....

$73 - 46$

.....

.....

.....

$80 - 59$

.....

.....

.....

3 Tô màu đỏ vào những đám mây ghi phép tính có kết quả bé hơn 56, màu xanh vào những đám mây ghi phép tính có kết quả lớn hơn 75.

$50 + 4$

$88 - 40$

$57 + 20$

$82 - 2$

$60 + 24$

$91 - 21$