
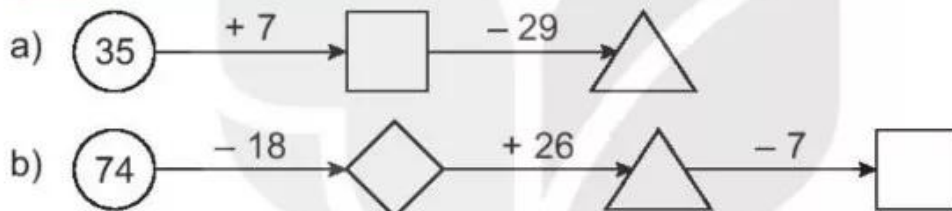


- 4 Quảng đường Hà Nội – Ninh Bình dài 80 km. Quảng đường Hà Nội – Bắc Giang dài 62 km. Hỏi quãng đường Hà Nội – Ninh Bình dài hơn quãng đường Hà Nội – Bắc Giang bao nhiêu ki-lô-mét?

Bài giải



- 5 SỐ ?



## Tiết 2

- 1 Đ, S ?

a) 
$$\begin{array}{r} 27 \\ + 6 \\ \hline 87 \end{array} \square$$

b) 
$$\begin{array}{r} 81 \\ - 7 \\ \hline 74 \end{array} \square$$

c) 
$$\begin{array}{r} 36 \\ + 48 \\ \hline 84 \end{array} \square$$

d) 
$$\begin{array}{r} 75 \\ - 39 \\ \hline 46 \end{array} \square$$

- 2 Đặt tính rồi tính.

a)  $39 + 36$

.....

.....

.....

$66 + 28$

.....

.....

.....

$7 + 85$

.....

.....

.....

b)  $85 - 56$

.....  
 .....  
 .....


$93 - 88$

.....  
 .....  
 .....

$52 - 9$

.....  
 .....  
 .....

3 ✎ Tô màu vàng vào quả bóng ghi phép tính có kết quả bé nhất, màu tím vào quả bóng ghi phép tính có kết quả lớn nhất.



4 ✎ Trong ngày sinh nhật bà, Việt hỏi: "Bà ơi, năm nay bà bao nhiêu tuổi?". Bà nói: "Cháu tính nhé! Năm nay ông 65 tuổi, bà kém ông 6 tuổi." Em hãy cùng Việt tính tuổi của bà.

*Bài giải*



5 ✎ a) Tính.

$76 + 18 - 9 = \dots\dots\dots$

$81 - 54 + 8 = \dots\dots\dots$

b) Viết tiếp vào chỗ chấm cho thích hợp.

Tìm hiệu của số tròn chục lớn nhất có hai chữ số và số bé nhất có hai chữ số giống nhau.

- Số tròn chục lớn nhất có hai chữ số là: .....
- Số bé nhất có hai chữ số giống nhau là: .....
- Hiệu của hai số trên là: .....

## Tiết 3

1 Khoanh vào chữ đặt trước câu trả lời đúng.

a) Tổng của 46 và 38 là:

- A. 84      B. 85      C. 74

b) Hiệu của 81 và 57 là:

- A. 34      B. 24      C. 42

c) Kết quả tính  $58 + 5 - 29$  là:

- A. 63      B. 44      C. 34

d) Kết quả tính  $44 - 6 + 46$  là:

- A. 38      B. 84      C. 85

2 Viết chữ số thích hợp vào ô trống.

$$\begin{array}{r} \text{a) } + 48 \\ \quad \square \\ \hline \square 2 \end{array}$$

$$\begin{array}{r} \text{b) } - 62 \\ \quad \square \\ \hline \square 7 \end{array}$$

$$\begin{array}{r} \text{c) } + 5\square \\ \square 8 \\ \hline 96 \end{array}$$

$$\begin{array}{r} \text{d) } - 8\square \\ \square 9 \\ \hline 54 \end{array}$$

3  $>$ ;  $<$ ;  $=$  ?

$56 \square 34 + 19$

$94 - 27 \square 48 + 25$

$36 \square 82 - 46$

$48 + 45 \square 94 - 5$

4 Mai cân nặng 25 kg, Mi cân nặng 16 kg. Hỏi Mai cân nặng hơn Mi bao nhiêu ki-lô-gam?

Bài giải



5 Số ?

