

# BÀI 70

## ÔN TẬP PHÉP CỘNG, PHÉP TRỪ TRONG PHẠM VI 1 000

### Tiết 1

1 Tính nhẩm.

a)  $400 + 500 = \dots\dots\dots$      $700 + 300 = \dots\dots\dots$      $800 + 80 = \dots\dots\dots$

b)  $600 + 400 = \dots\dots\dots$      $1\ 000 - 600 = \dots\dots\dots$      $1\ 000 - 400 = \dots\dots\dots$

c)  $900 - 300 = \dots\dots\dots$      $1\ 000 - 500 = \dots\dots\dots$      $740 - 40 = \dots\dots\dots$

2 Đặt tính rồi tính.

a)  $243 + 535$

.....  
.....  
.....

$327 + 456$

.....  
.....  
.....

$864 + 72$

.....  
.....  
.....

b)  $878 - 642$

.....  
.....  
.....

$961 - 725$

.....  
.....  
.....

$609 - 57$

.....  
.....  
.....

3 Nối ô trống với phép tính thích hợp (theo mẫu).

$475 + 200$

$193 + 300$

$890 - 420$

$> 650$

$< 500$

$954 - 254$

$615 + 45$

$730 - 300$

4) Quan sát một số tuyến đường bộ trong hình rồi viết tiếp vào chỗ chấm cho thích hợp.



a) Trong hai địa điểm Cao Bằng và Vinh thì ..... gần Hà Nội hơn.

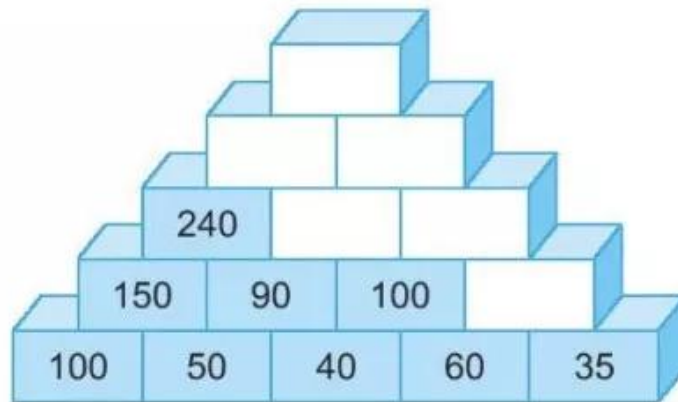
b) Quãng đường Đà Nẵng – Cần Thơ (qua Thành phố Hồ Chí Minh) dài:

.....

c) Quãng đường Đà Nẵng – Thành phố Hồ Chí Minh dài hơn quãng đường Đà Nẵng – Vinh là:

.....

5 Số ?



## Tiết 2

1 Đ, S ?

$$\begin{array}{r} 367 \\ + 25 \\ \hline 392 \end{array} \quad \square$$

$$\begin{array}{r} 572 \\ - 38 \\ \hline 192 \end{array} \quad \square$$

$$\begin{array}{r} 451 \\ + 465 \\ \hline 816 \end{array} \quad \square$$

$$\begin{array}{r} 784 \\ - 629 \\ \hline 155 \end{array} \quad \square$$

2 Đặt tính rồi tính.

a)  $9 + 582$

.....  
.....  
.....

$56 + 763$

.....  
.....  
.....

$358 + 425$

.....  
.....  
.....

b)  $434 - 8$

.....  
.....  
.....

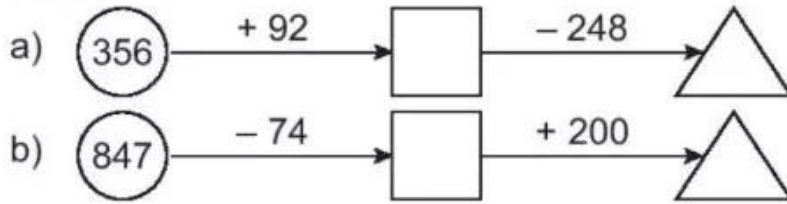
$692 - 86$

.....  
.....  
.....

$937 - 561$

.....  
.....  
.....

3 **Số ?**



4 a) Tính.

$$425 + 248 - 56 = \dots\dots\dots$$

$$967 - 674 + 80 = \dots\dots\dots$$


b) **>; <; = ?**

$$400 + 30 \square 450$$

$$790 - 400 \square 600 - 200$$

5 Để ủng hộ các bạn vùng bị lũ lụt, trường Thắng Lợi quyên góp được 325 bộ quần áo. Trường Hoà Bình quyên góp được nhiều hơn trường Thắng Lợi 28 bộ quần áo. Hỏi trường Hoà Bình quyên góp được bao nhiêu bộ quần áo?

*Bài giải*



**Tiết 3**

1 Khoanh vào chữ đặt trước câu trả lời đúng.

a) Tổng của 567 và 329 là:

A. 886

B. 896

C. 986

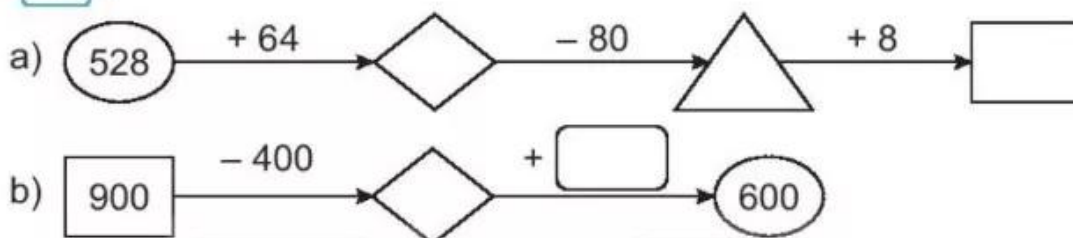
b) Hiệu của 783 và 65 là:

A. 718      B. 728      C. 133

c) Kết quả tính  $653 + 74 - 60$  là:

A. 727      B. 767      C. 667

2) Số ?



3) Giải bài toán theo tóm tắt sau:

Tóm tắt

Nam cao: 121 cm

Việt cao: 117 cm

Nam cao hơn Việt: ... cm?

Bài giải



4) Viết chữ số thích hợp vào ô trống.

$$\begin{array}{r} + \quad 4 \quad 2 \quad 7 \\ \quad \quad 4 \quad \square \\ \hline \square \square 3 \end{array}$$

$$\begin{array}{r} - \quad 6 \quad 4 \quad 9 \\ \quad \quad 9 \quad \square \\ \hline \square \square 5 \end{array}$$

$$\begin{array}{r} - \quad 9 \quad \square \quad 1 \\ \quad \quad 6 \quad 5 \quad 6 \\ \hline \square 2 \square \end{array}$$

5) Viết tiếp vào chỗ chấm cho thích hợp.

Tìm tổng của số bé nhất có ba chữ số khác nhau và số bé nhất có ba chữ số.

- Số bé nhất có ba chữ số khác nhau là: .....
- Số bé nhất có ba chữ số là: .....
- Tổng của hai số trên là: .....