

BÀI 71

ÔN TẬP PHÉP NHÂN, PHÉP CHIA


Tiết 1

1 Nói (theo mẫu).

Mỗi nhóm con vật có bao nhiêu cái chân?



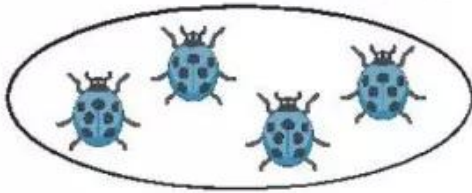
$$6 \times 4 = 24$$



$$4 \times 3 = 12$$



$$8 \times 3 = 24$$



$$2 \times 5 = 10$$

2 Viết tích thành tổng các số hạng bằng nhau rồi tính (theo mẫu).

Mẫu: $6 \times 4 = 6 + 6 + 6 + 6 = 24$. Vậy $6 \times 4 = 24$.

a) $4 \times 5 = \dots\dots\dots = \dots\dots$ Vậy $4 \times 5 = \dots\dots\dots$

b) $4 \times 6 = \dots\dots\dots = \dots\dots$ Vậy $4 \times 6 = \dots\dots\dots$

c) $10 \times 3 = \dots\dots\dots = \dots\dots$ Vậy $10 \times 3 = \dots\dots\dots$

3) Viết phép chia thích hợp vào ô trống (theo mẫu).

Mẫu:

$5 \times 4 = 20$	$20 : 5 = 4$
	$20 : 4 = 5$

a)

$5 \times 7 = 35$	

b)


$2 \times 8 = 16$	

c)

$2 \times 9 = 18$	

4) Có 12 kg đường chia đều vào 2 túi. Hỏi mỗi túi có mấy ki-lô-gam đường?

Bài giải



5) Khoanh vào chữ đặt trước câu trả lời đúng.

Mỗi lọ hoa có 5 bông hồng và 2 bông cúc. Hỏi 6 lọ hoa như vậy có:

a) Bao nhiêu bông hoa hồng?

A. 25 bông B. 30 bông C. 35 bông

b) Bao nhiêu bông hoa cúc?

A. 14 bông B. 12 bông C. 10 bông

Tiết 2

1 Số ?

a)

Thừa số	2	2	2	5	5	5
Thừa số	6	7	8	4	5	9
Tích						

b)

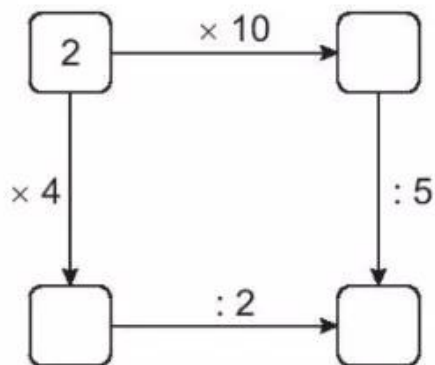
Số bị chia	12	14	16	15	30	45
Số chia	2	2	2	5	5	5
Thương						

2 Nói (theo mẫu).

Mỗi chìa khoá mở được ổ khoá nào?




3 Số ?




- 4) Mỗi chuyến hàng chở vào miền Trung giúp đỡ đồng bào bị lũ lụt có 5 ô tô chở hàng. Hỏi 3 chuyến hàng như vậy có bao nhiêu ô tô chở hàng?

Bài giải



- 5) Cứ 5 thanh tre dài bằng nhau, Rô-bốt đan được một ngôi sao 5 cánh. Hỏi phải dùng bao nhiêu thanh tre như vậy để đan được 4 ngôi sao 5 cánh?

Bài giải



Tiết 3

- 1) Số ?

a)

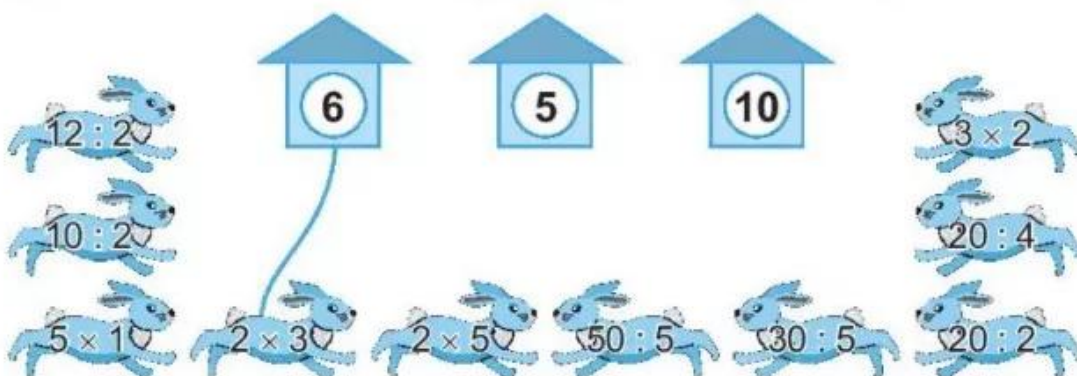
×	2	2	2	5	5	5
	7	6	5	4	3	2
	14					

b)

:	14	16	18	40	45
	2	2	2	5	5
	7				

2) Thỏ vào được chuồng khi kết quả của phép tính ghi trên thỏ bằng số ghi ở chuồng đó.

a) Nói mỗi con thỏ với chuồng nó được vào (theo mẫu).



b) Khoanh vào chữ đặt trước câu trả lời đúng.

Chuồng nào có nhiều thỏ được vào nhất?

A. Chuồng số 6

B. Chuồng số 5


C. Chuồng số 10

3) Số ?



4) Trong nhà để xe có 10 xe máy. Hỏi có tất cả bao nhiêu bánh xe máy?

Bài giải



5) Khoanh vào chữ đặt trước câu trả lời đúng.

Trong chuồng có cả gà và thỏ. Biết cả gà và thỏ có 10 cái chân và số gà nhiều hơn số thỏ. Hỏi trong chuồng có bao nhiêu con gà?

A. 6 con gà

B. 3 con gà

C. 2 con gà