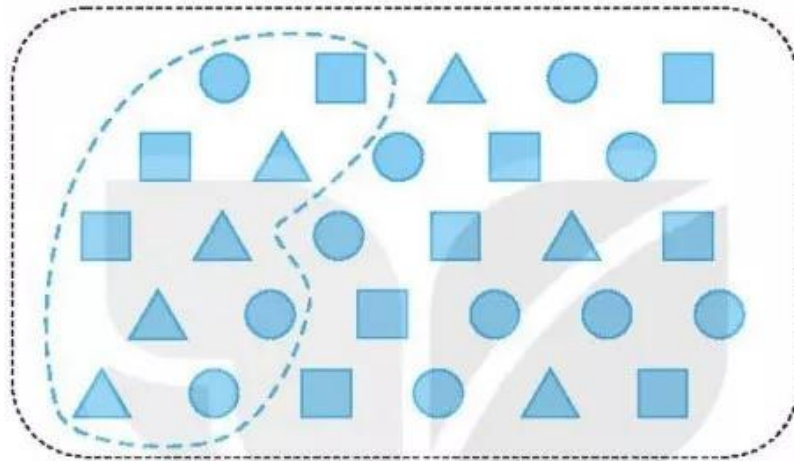


BÀI 74

ÔN TẬP KIỂM Đếm SỐ LIỆU VÀ LỰA CHỌN KHẢ NĂNG

1 Dưới đây là các hình vuông, hình tròn, hình tam giác mà bạn Nam cắt được:



a) Số ?

Em ước lượng xem cả ba loại (hình tròn, hình vuông, hình tam giác), bạn Nam cắt tất cả được khoảng mấy chục hình rồi đếm lại.

- Em ước lượng có tất cả khoảng chục hình.
- Em đếm được có tất cả hình.

b) Số ?

Hình	Hình vuông	Hình tròn	Hình tam giác
Số hình			

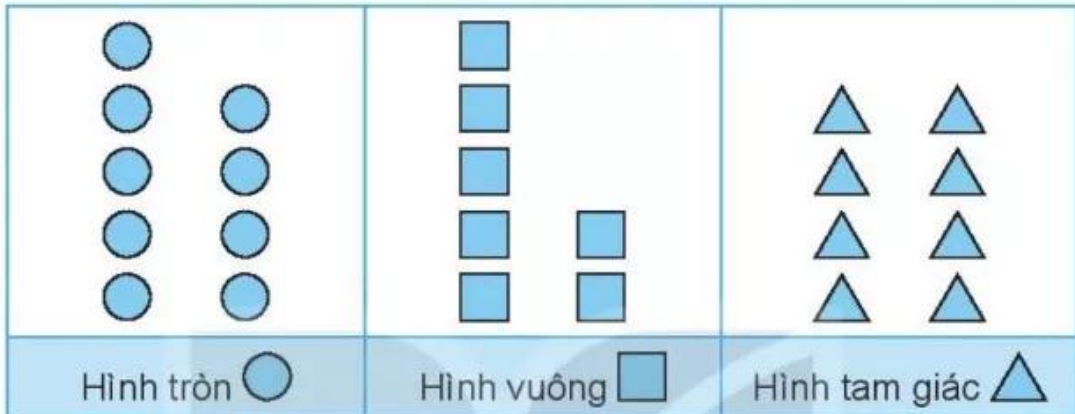
c) Khoanh vào chữ đặt trước câu trả lời đúng.

Hình nào có nhiều nhất?

- A. Hình vuông B. Hình tròn C. Hình tam giác

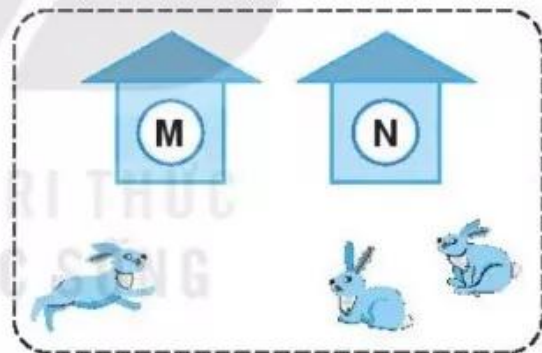
- 2 ✎ Mai đã vẽ được 10 hình tròn, 9 hình vuông và 10 hình tam giác. Em hãy vẽ thêm các hình tròn, hình vuông, hình tam giác vào biểu đồ tranh sau cho thích hợp:

SỐ HÌNH BẠN MAI ĐÃ VẪ ĐƯỢC



- 3 ✎ Khoanh vào chữ đặt trước câu trả lời đúng.

Có 3 con thỏ chạy vào cả hai chuồng **(M)** và **(N)**, chuồng nào cũng có thỏ.



Khả năng nào xảy ra trong mỗi trường hợp sau:

a) Chuồng **(M)** có 2 con thỏ.

- A. Có thể B. Không thể C. Chắc chắn

b) Chuồng **(N)** có 3 con thỏ.

- A. Có thể B. Không thể C. Chắc chắn

c) Chuồng **(N)** có ít nhất 1 con thỏ.

- A. Có thể B. Không thể C. Chắc chắn