

BÀI 75

ÔN TẬP CHUNG

Tiết 1

1) Viết số thích hợp vào chỗ chấm.

- a) Số gồm 3 trăm, 6 chục và 7 đơn vị là
- b) Số gồm 2 trăm, 8 chục và 8 đơn vị là
- c) Số gồm 7 trăm, 0 chục và 3 đơn vị là
- d) Số gồm 5 trăm, 9 chục và 0 đơn vị là

2) Viết số thành tổng các trăm, chục, đơn vị (theo mẫu).

Mẫu: $576 = 500 + 70 + 6$.

786 = 425 =

650 = 902 =

3) Cho các số 263; 326; 236; 362.

a) Viết các số đã cho theo thứ tự:

- Từ bé đến lớn:
- Từ lớn đến bé:

b) Viết số thích hợp vào chỗ chấm.

Trong bốn số đã cho, số lớn nhất là; số bé nhất là

4) Số ?


a)

Thừa số	2	2	2	2	5	5	5	5
Thừa số	6	7	8	9	5	4	3	2
Tích								

b)	Số bị chia	25	35	45	50	18	16	14	20
	Số chia	5	5	5	5	2	2	2	2
	Thương								

- 5 Ngày thứ nhất, nhà Biển làm được 150 l nước mắm. Ngày thứ hai, nhà Biển làm được nhiều hơn ngày thứ nhất 65 l nước mắm. Hỏi ngày thứ hai nhà Biển làm được bao nhiêu lít nước mắm?

Bài giải

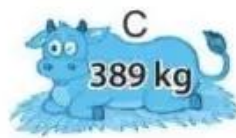


Tiết 2

- 1 Đặt tính rồi tính.

$47 + 26$	$247 + 172$	$82 - 48$	$543 - 109$
.....
.....
.....

- 2 Viết số thích hợp vào chỗ chấm.

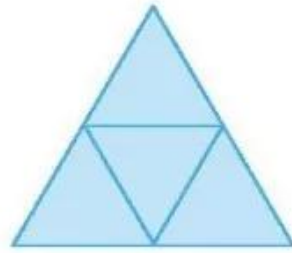


- a) Con bò A và con bò D cân nặng tất cả là kg.
b) Con bò B nặng hơn con bò C là kg.

3 a) Số ?

Trong hình bên:

- Có hình tam giác;
- Có hình tứ giác.



b) Khoanh vào chữ đặt trước câu trả lời đúng.



Hình thích hợp đặt vào dấu "?" là:



4 Viết số thích hợp vào chỗ chấm.

Cho đường gấp khúc ABCD như hình vẽ.



a) Đoạn thẳng AB dài hơn đoạn thẳng BC là m.

b) Độ dài đường gấp khúc ABCD là m.

5 Tàu thứ nhất chở 26 khách du lịch. Tàu thứ hai chở nhiều hơn tàu thứ nhất 4 khách du lịch. Hỏi tàu thứ hai chở bao nhiêu khách du lịch?

Bài giải

