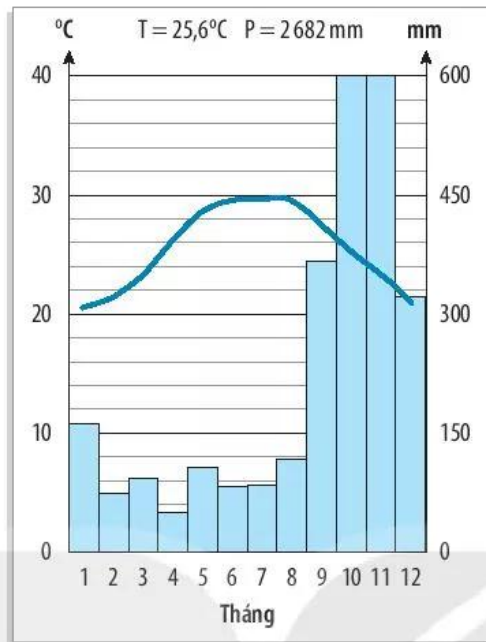


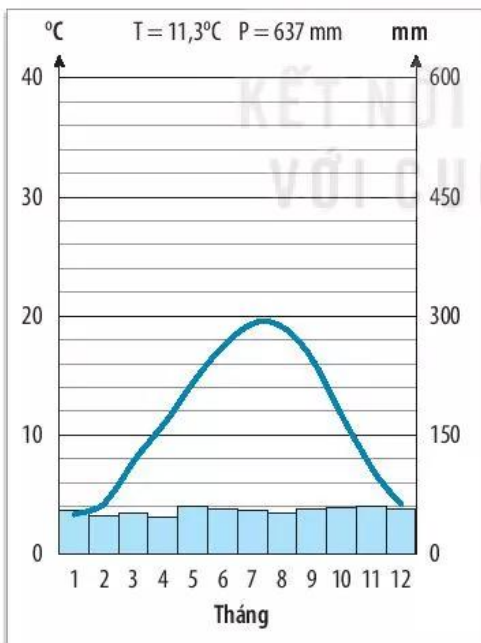
**Bài tập 1.** Quan sát hình 1 (trang 43), em hãy cho biết:

- Trục bên trái thể hiện yếu tố nào, đơn vị đo của yếu tố đó.
- Trục bên phải thể hiện yếu tố nào, đơn vị đo của yếu tố đó.
- Thời điểm nhiệt độ cao nhất trong năm, thấp nhất trong năm.
- Thời điểm lượng mưa cao nhất trong năm, thấp nhất trong năm.

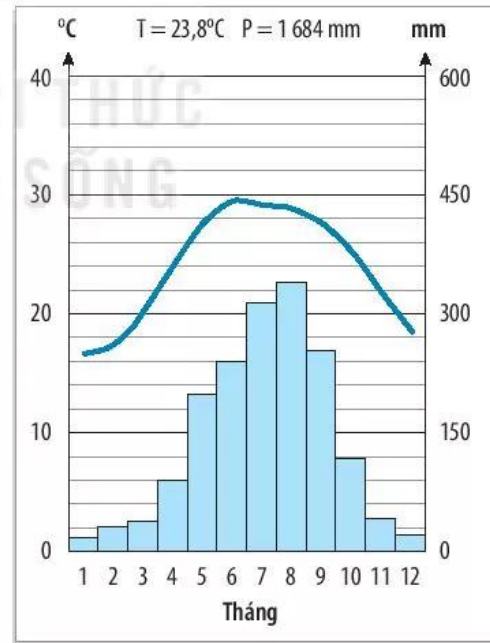


Hình 1. Biểu đồ nhiệt độ và lượng mưa tại trạm khí tượng Huế (thành phố Huế)

**Bài tập 2.** Dựa vào biểu đồ dưới đây, nêu sự khác biệt về nhiệt độ và lượng mưa của hai trạm khí tượng Pa-ri và Láng.



Hình 2. Biểu đồ nhiệt độ và lượng mưa của trạm khí tượng Pa-ri (Cộng hoà Pháp)



Hình 3. Biểu đồ nhiệt độ và lượng mưa của trạm khí tượng Láng (Hà Nội, Việt Nam)