

Bài 22 LỚP ĐẤT TRÊN TRÁI ĐẤT

1. Lựa chọn đáp án đúng.

a) Đất là

- A. lớp mùn có màu nâu xám, cung cấp chất dinh dưỡng cho cây trồng phát triển.
- B. lớp vật chất mỏng, vụn bở, bao phủ trên bề mặt các lục địa và đảo, được đặc trưng bởi độ phì.
- C. lớp vật liệu vụn bở, có thành phần phức tạp ở phía trên lục địa và bề mặt đáy đại dương.
- D. lớp vật chất có được từ quá trình phân hủy các loại đá.

b) Nhân tố tác động chủ yếu đến quá trình hình thành độ phì của đất là

- A. đá mẹ.
- B. địa hình.
- C. khí hậu.
- D. sinh vật.

c) Nhận định nào dưới đây **không đúng** đối với quá trình hình thành đất?

- A. Địa hình ảnh hưởng đến độ dày của tầng đất và độ phì của đất.
- B. Đá mẹ ảnh hưởng đến màu sắc của đất.
- C. Khí hậu ảnh hưởng đến chiều hướng phát triển của đất.
- D. Thời gian quyết định đến màu sắc của đất.

d) Dựa vào thành phần nào trong đất để xác định đất ẩm hay khô?

- A. Rễ cây và không khí.
- B. Nước.
- C. Không khí và nước.
- D. Mùn.

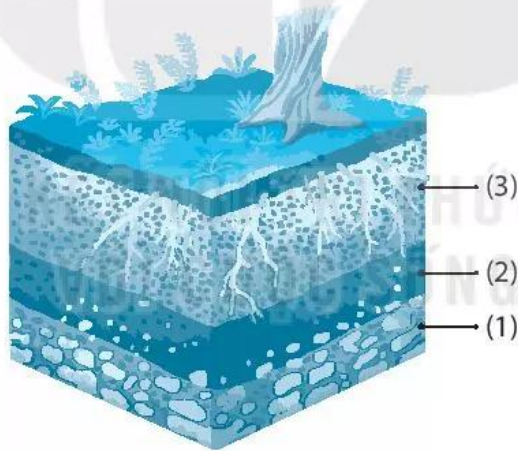
e) Nhóm đất nào dưới đây được coi là nhóm đất tốt nhất?

- A. Đất pốt dôn.
- B. Đất đen thảo nguyên ôn đới.
- C. Đất đỏ vàng nhiệt đới.
- D. Đất đài nguyên.

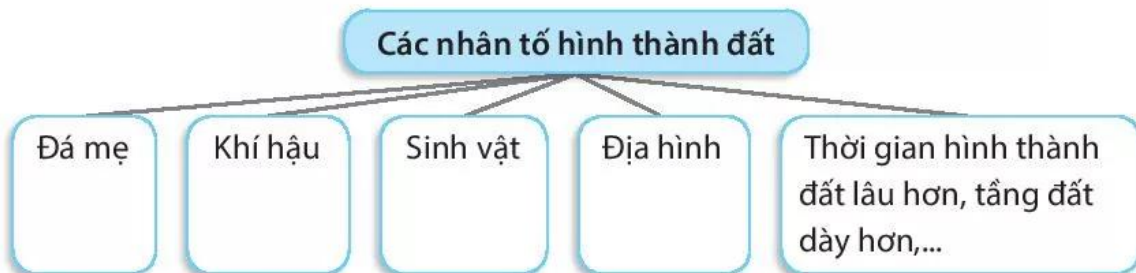
2. Ghép các ô ở bên trái với các ô ở bên phải sao cho phù hợp.

1. Đá mẹ	a) khả năng cung cấp nước, chất dinh dưỡng và các yếu tố cần thiết khác như nhiệt độ, không khí,... cho cây sinh trưởng và phát triển.
2. Sinh vật	b) là nguồn gốc sinh ra thành phần khoáng trong đất.
3. Độ phì	c) chiếm một tỉ lệ nhỏ, cung cấp những chất dinh dưỡng cho thực vật.
4. Thành phần khoáng	d) là nguồn gốc sinh ra thành phần hữu cơ trong đất.
5. Thành phần hữu cơ	e) chiếm phần lớn trọng lượng của đất.

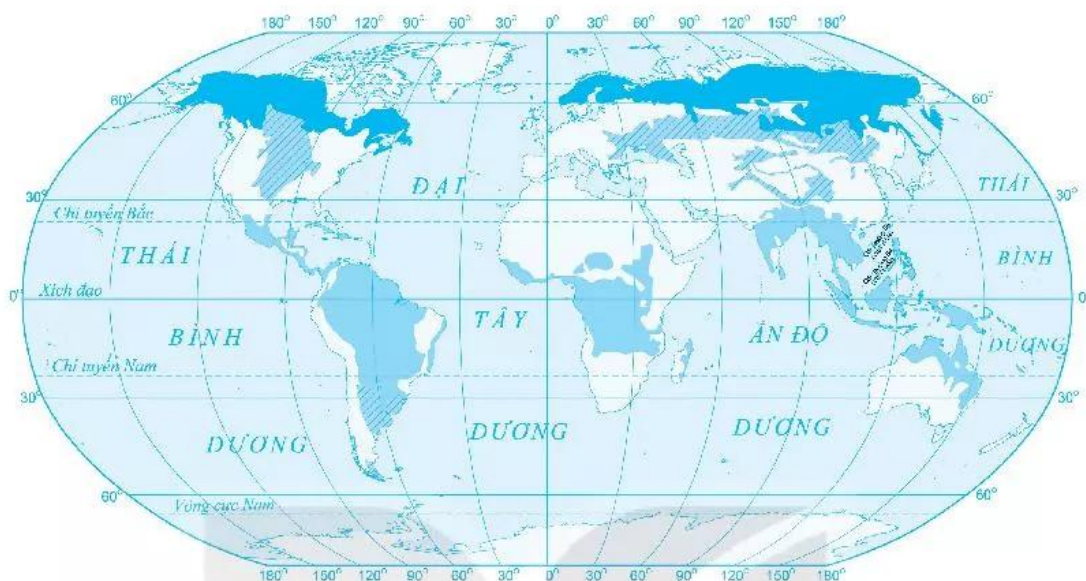
3. Chú thích các tầng đất cho hình sau:



4. Em hãy trình bày các nhân tố hình thành đất, bằng cách hoàn thành sơ đồ theo mẫu dưới đây:



5. Làm chú giải cho lược đồ sau, bằng cách thể hiện kí hiệu và ghi tên các loại đất.



- (1).....
- (2).....
- (3).....

Lược đồ phân bố một số nhóm đất điển hình trên Trái Đất

6. Ghép các ô ở bên trái với các ô ở bên phải sao cho phù hợp.

1. Đất đen thảo nguyên ôn đới	a) có màu đỏ vàng.
2. Đất pốt đôn	b) có màu đen.
3. Đất đỏ vàng nhiệt đới	c) đặc tính chua, nghèo mùn, ít dinh dưỡng.
	d) tầng đất dày, tương đối chua, ít dinh dưỡng.
	e) giàu mùn, là loại đất tốt nhất thế giới.

7. Trong các ý sau, ý nào là biện pháp để làm tăng độ phì của đất?

a) Xới đất.

b) Sử dụng phân hoá học.

c) Sử dụng phân hữu cơ.

d) Du canh, du cư, đốt rừng làm nương rẫy.

e) Phủ xanh đất trống, đồi núi trọc.