

## Bài 4

# KÍ HIỆU VÀ BẢNG CHÚ GIẢI BẢN ĐỒ. TÌM ĐƯỜNG ĐI TRÊN BẢN ĐỒ

1. Lựa chọn đáp án đúng.

a) Kí hiệu bản đồ dùng để

- A. xác định phương hướng trên bản đồ.
- B. xác định tọa độ địa lí trên bản đồ.
- C. thể hiện các đối tượng địa lí trên bản đồ.
- D. biết tỉ lệ của bản đồ.












b) Để thể hiện một nhà máy trên bản đồ, người ta sử dụng loại kí hiệu nào?

- A. Kí hiệu điểm.
- B. Kí hiệu đường.
- C. Kí hiệu diện tích.
- D. Cả ba loại kí hiệu trên.

2. Ghép các ô ở cột bên trái với các ô ở cột bên phải sao cho đúng.

### KÍ HIỆU

### LOẠI KÍ HIỆU

- (a)  Than đá
- (b)  Dầu mỏ
- (c)  Vùng trồng lúa
- (d)  Đường sắt
- (e)  Bãi cát
- (g)  Đỉnh núi
- (h)  Thành phố
- (i)  Hang động
- (k)  Cà phê
- (l)  Sông
- (m)  Bò

Kí hiệu điểm (1)

Kí hiệu diện tích (2)

Kí hiệu đường (3)

3. Đọc bảng chú giải của bản đồ trang 96 – 97 SGK, em hãy tìm một số đối tượng được thể hiện bằng
- Kí hiệu điểm
  - Kí hiệu đường
  - Kí hiệu diện tích
4. Cho bảng chú giải:

<b>CHÚ GIẢI</b>			
<b>HIỆN TRẠNG SỬ DỤNG ĐẤT</b>			
	Đất trồng lúa		
	Đất trồng cây hàng năm khác		
	Đất trồng cây lâu năm		
	Đất lâm nghiệp		
	Đất ở và đất chuyên dùng		
<b>PHÂN BỐ NÔNG NGHIỆP</b>			
	Lúa		Trâu
	Ngô		Bò
	Khoai		Lợn
	Sắn		Gia cầm
	Lạc		
	Cây ăn quả		
	Cây thực phẩm		
<b>CÁC YẾU TỐ KHÁC</b>			
	Thị trấn		
	Quốc lộ, số đường		
	Tỉnh lộ, số đường		
	Sông, hồ		

Quan sát bảng chú giải, em hãy:

- Cho biết các loại kí hiệu được thể hiện trong bảng chú giải.
- Nêu những đối tượng bản đồ thể hiện.

5. Đọc bản đồ Tự nhiên thế giới (trang 96 – 97 SGK), cho biết:
- Nội dung và phạm vi lãnh thổ được thể hiện trên bản đồ.
  - Các lục địa nằm ở bán cầu Tây, các lục địa nằm ở bán cầu Đông.
  - Tên các đại dương trên thế giới.
  - Tên một số dãy núi, sơn nguyên, đồng bằng lớn ở châu Á.

- 6.** Bạn An mới đến phường Phạm Ngũ Lão (Quận 1, TP. Hồ Chí Minh) sống, bạn ấy chưa biết đường ở khu vực đó. Biết rằng nhà An ở ngã ba giao giữa đường Lê Lai và đường Phạm Hồng Thái. Em hãy dựa vào bản đồ hình 1 SGK (trang 107) để chỉ đường (lộ trình, chiều dài quãng đường) cho bạn An đến:
- Công viên Tao Đàn.
  - Chợ Bến Thành.
  - UBND Thành phố.