





# BÀI 1


# ÔN TẬP CÁC SỐ ĐẾN 100

## Tiết 1

1 ✍️ Viết (theo mẫu).

	Chục	Đơn vị	Viết số	Đọc số
	2	5	25	hai mươi lăm
				
				
				

2 ✍️ Viết số thích hợp vào con cá mà mèo câu được (theo mẫu).



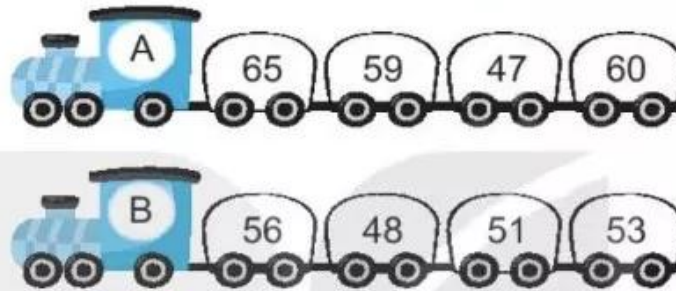


3 ✎ Viết vào ô trống (theo mẫu).

Số gồm	Viết số	Đọc số
6 chục và 4 đơn vị	64	sáu mươi tư
5 chục và 5 đơn vị		
	82	
		chín mươi một



4 ✎



- a) Tô màu vàng vào các toa của đoàn tàu A ghi số bé hơn 60.  
 b) Ở đoàn tàu B, tô màu đỏ vào toa ghi số lớn nhất, màu xanh vào toa ghi số bé nhất.  
 c) Viết tiếp vào chỗ chấm.

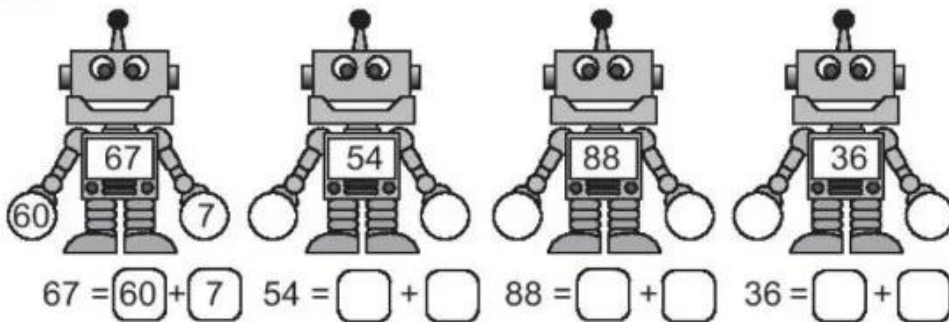
Ở cả hai đoàn tàu, những số vừa bé hơn 60 vừa lớn hơn 50 là:

.....

## Tiết 2



1 ✎ Số ?



2



Viết các số ghi trên mỗi chiếc giày theo thứ tự:

Từ bé đến lớn: .....

Từ lớn đến bé: .....

3

Số ?

Số	Số chục	Số đơn vị
47	4	7
62		
77		
80		
89		

4

Viết tất cả các số có hai chữ số lập được từ ba thẻ số bên.

.....  
.....



### Tiết 3

1

Viết số thích hợp vào chỗ chấm.

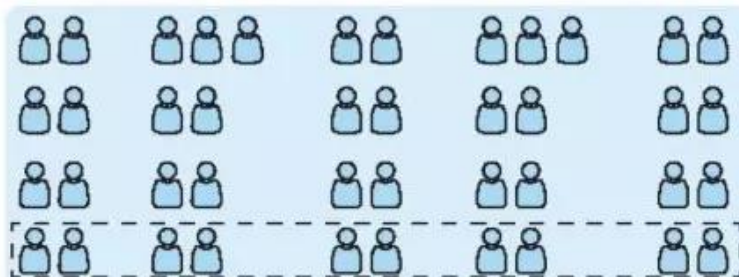
Dưới đây là sơ đồ ghế của một phòng họp, mỗi chỉ một ghế.

– Em ước lượng:

Khoảng ..... chục ghế.

– Em đếm được:

..... ghế.





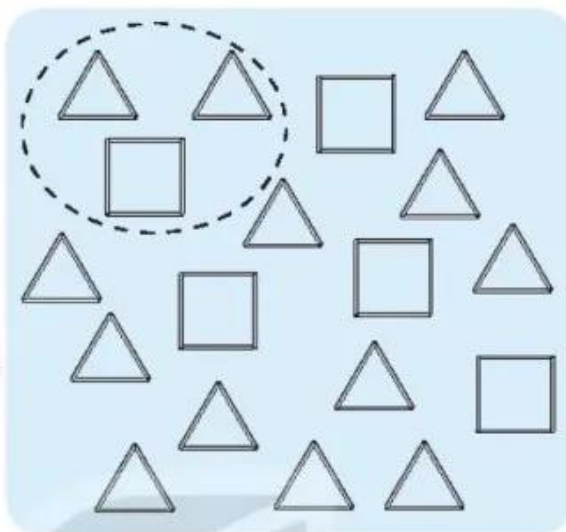
2 ✎ Viết số thích hợp vào chỗ chấm.

Hình vẽ bên gồm các hình vuông và hình tam giác được xếp bởi các que tính.

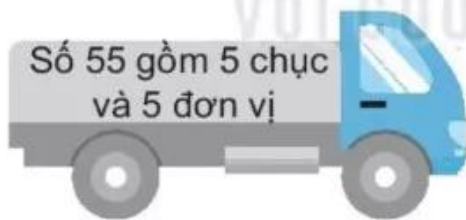
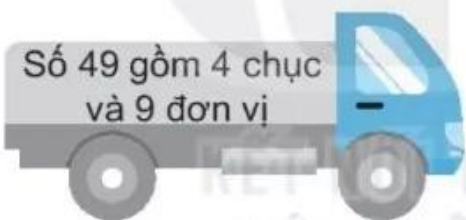
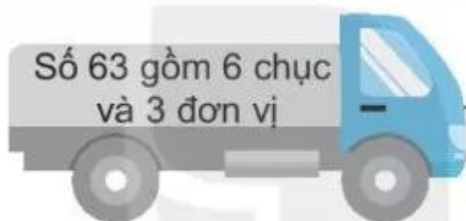
– Em ước lượng:

Khoảng ..... chục que tính.

– Em đếm được: ..... que tính.



3 ✎ Nói (theo mẫu).



$$55 = 50 + 5$$

$$81 = 80 + 1$$

$$63 = 60 + 3$$

$$49 = 40 + 9$$

4) a) Viết tiếp vào chỗ chấm (theo mẫu).

Viết đã ghép mỗi miếng bìa (E, G, H, K) vào một ô trống (A, B, C, D) để được bảng các số từ 1 đến 100.

Viết ghép như sau:

- Ghép E vào C.
- Ghép ..... vào .....
- Ghép ..... vào .....
- Ghép ..... vào .....

E	63	64	1	2	3	4	5	6	7	8	9	10
	73	74	11	12	13	14	15	16	17	18	19	20
G	27	28	21	22	A		25	26	B		29	30
	37	38	31	32			35	36			39	40
H	23	24	41	42	43	44	45	46	47	48	49	50
	33	34	51	52	53	54	55	56	57	58	59	60
K	67	68	61	62	C		65	66	D		69	70
	77	78	71	72			75	76			79	80
			81	82	83	84	85	86	87	88	89	90
			91	92	93	94	95	96	97	98	99	100

b) Viết số thích hợp vào chỗ chấm.

- Trong các số ở miếng bìa E, số bé nhất là .....
- Trong các số ở miếng bìa G, số bé nhất là .....
- Trong các số ở miếng bìa H, số bé nhất là .....
- Trong các số ở miếng bìa K, số bé nhất là .....