

# BÀI 11

## PHÉP TRỪ (qua 10) TRONG PHẠM VI 20

### Tiết 1

1

a) Tính  $11 - 4$ .

- Tách:  $11 = 10 + 1$
- $10 - 4 = \dots$
- $6 + \dots = \dots$
- $11 - 4 = \dots$

b) Tính  $12 - 3$ .

- Tách:  $12 = 10 + \dots$
- $10 - \dots = \dots$
- $\dots + \dots = \dots$
- $12 - 3 = \dots$


2

Tính nhẩm.

$11 - 2 = \dots$	$11 - 5 = \dots$	$11 - 3 = \dots$
$11 - 6 = \dots$	$11 - 8 = \dots$	$11 - 9 = \dots$
$11 - 7 = \dots$	$11 - 4 = \dots$	$11 - 1 = \dots$

3

Nói (theo mẫu).



- 4 Tô màu vàng vào quả ghi phép tính có kết quả bé nhất, màu xanh vào quả ghi phép tính có kết quả lớn nhất.

11 - 2

11 - 8

11 - 4

11 - 9

## Tiết 2

1

a) Tính  $13 - 4$ .

• Tách:  $13 = 10 + \dots$

•  $10 - 4 = \dots$

•  $6 + \dots = \dots$

$13 - 4 = \dots$

b) Tính  $12 - 6$ .

• Tách:  $12 = 10 + \dots$

•  $10 - \dots = \dots$

•  $\dots + \dots = \dots$

$12 - 6 = \dots$

2

Tính nhẩm.

$12 - 3 = \dots$

$12 - 4 = \dots$

$12 - 5 = \dots$

$12 - 6 = \dots$

$12 - 9 = \dots$

$12 - 8 = \dots$

$12 - 7 = \dots$

$12 - 2 = \dots$


3

Số ?

	13	13	13	13	13	13
-	9	8	7	6	5	4
	4					

- 4 Nam có 13 quyển vở, Nam đã dùng 8 quyển. Hỏi Nam còn lại bao nhiêu quyển vở chưa dùng?

*Bài giải*



5 Đ, S ?

$13 - 6 = 7$

$12 - 5 = 8$

$12 - 7 > 4$

$12 - 8 = 3$

$13 - 8 = 5$

$13 - 9 < 4$

### Tiết 3

1

a) Tính  $14 - 7$ .

• Tách:  $14 = 10 + \dots$

•  $10 - 7 = \dots$

•  $\dots + \dots = \dots$

$14 - 7 = \dots$

b) Tính  $15 - 6$ .

• Tách:  $15 = 10 + \dots$

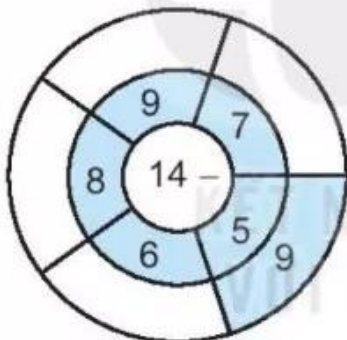
•  $10 - \dots = \dots$

•  $\dots + \dots = \dots$

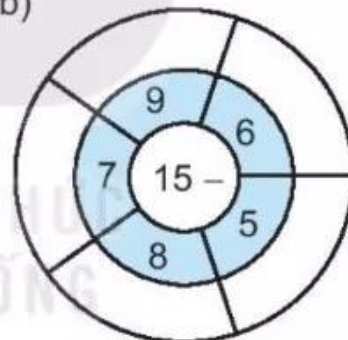
$15 - 6 = \dots$

2 Số ?

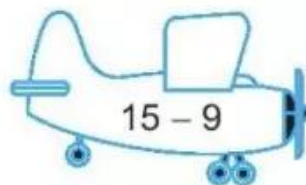
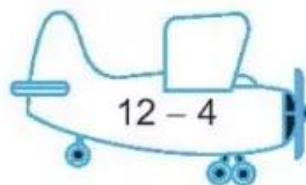
a)



b)




3 Tô màu đỏ vào những máy bay ghi phép trừ có hiệu bằng 6, màu xanh vào những máy bay ghi phép trừ có hiệu bằng 8.



- 4 Một giỏ có 15 quả măng cụt, Mai lấy ra 6 quả.

Hỏi trong giỏ còn lại bao nhiêu quả măng cụt?

Bài giải



- 5 >; <; = ?

a)  $14 - 6$   8

b)  $5$    $14 - 9$

c)  $13 - 8$   7

$15 - 7$   9

$9$    $15 - 8$

$14 - 7$   6

## Tiết 4

- 1 a) Tính nhẩm.

$16 - 7 = \dots$

$17 - 8 = \dots$

$18 - 9 = \dots$

$16 - 8 = \dots$


$17 - 9 = \dots$

$16 - 9 = \dots$

- b) Số ?


Số bị trừ	17	18	16	17	16	16
Số trừ	9	9	7	8	8	9
Hiệu						

- 2 Tô màu xanh vào quả ghi phép trừ có hiệu lớn nhất, màu vàng vào quả ghi phép trừ có hiệu bé nhất.



Bài giải

3 Mai hái được 17 bông hoa, Mi hái được 8 bông hoa. Hỏi Mai hái được hơn Mi bao nhiêu bông hoa?

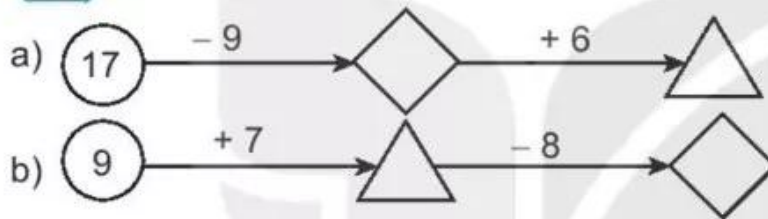


4 >; <; = ?

a)  $17 - 8$    $9$   
 $18 - 9$    $8$

b)  $16 - 9$    $15 - 7$   
 $16 - 7$    $14 - 6$

5 Số ?



Tiết 5

1 Số ?

Xuất phát



$11 - 7 =$

$14 - 8 =$

$12 - 5 =$

$13 - 9 =$

$11 - 6 =$

$16 - 7 =$

$13 - 6 =$

$15 - 8 =$

Đích

$17 - 9 =$

$14 - 5 =$

2 ✎ Tính.

a)  $9 + 6 = \dots$

b)  $6 + 7 = \dots$

c)  $4 + 8 = \dots$

$6 + 9 = \dots$

$7 + 6 = \dots$

$8 + 4 = \dots$

$15 - 9 = \dots$

$13 - 6 = \dots$

$12 - 4 = \dots$

$15 - 6 = \dots$

$13 - 7 = \dots$

$12 - 8 = \dots$

3 ✎ Tính nhẩm.

a)  $13 - 3 - 5 = \dots$

b)  $16 - 6 - 3 = \dots$

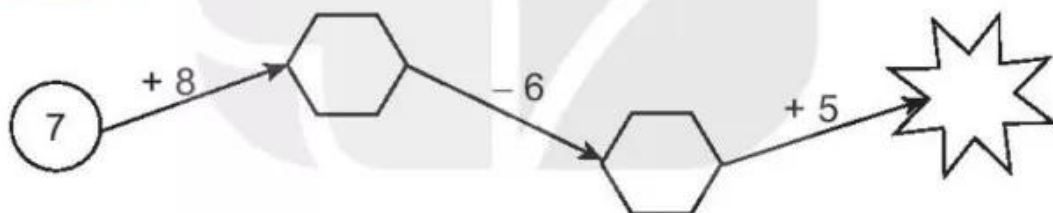
c)  $17 - 7 - 1 = \dots$

$13 - 8 = \dots$

$16 - 9 = \dots$

$17 - 8 = \dots$

4 ✎ Số ?



5 ✎ Cô Lan có 14 quả trứng gà. Cô dùng 5 quả để làm bánh. Hỏi cô Lan còn lại bao nhiêu quả trứng gà?

*Bài giải*

