

BÀI 16

LÍT

Tiết 1

- 1 Quan sát hình rồi viết Đ (đúng), S (sai) vào ô trống.



- a) Bình D đựng nhiều hơn 1 l nước.
b) Cốc A đựng ít hơn 1 l nước.
c) Bình C đựng lượng nước bằng lượng nước ở ca B.
d) Cốc A đựng lượng nước nhiều hơn bình D.

- 2 a) Nối (theo mẫu).



Mười lít

Ba lít

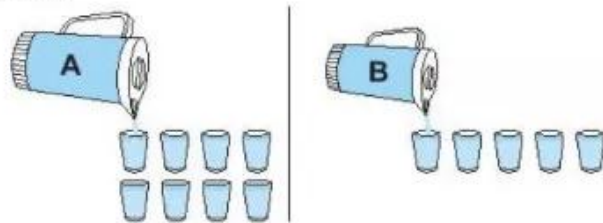
Hai mươi lít

Năm lít

- b) Trong các đồ vật ở câu a: Tô màu đỏ vào đồ vật chứa được nhiều nước nhất, màu xanh vào đồ vật chứa được ít nước nhất.

- 3 Viết số thích hợp vào chỗ chấm.

Rót hết nước từ bình A và bình B được đầy các cốc nước (như hình vẽ).



- a) Lượng nước ở bình A là cốc. Lượng nước ở bình B là cốc.
b) Lượng nước ở cả hai bình là cốc.

Tiết 2

1 ✎ Viết số thích hợp vào chỗ chấm.

a) $30\text{ l} + 10\text{ l} = \dots\dots\text{ l}$

$35\text{ l} + 30\text{ l} = \dots\dots\text{ l}$

$48\text{ l} + 20\text{ l} = \dots\dots\text{ l}$

b) $50\text{ l} - 30\text{ l} = \dots\dots\text{ l}$


$39\text{ l} - 9\text{ l} = \dots\dots\text{ l}$

$47\text{ l} - 40\text{ l} = \dots\dots\text{ l}$

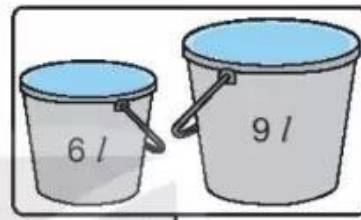
2 ✎ Số ?



5 l



□ l




□ l




□ l


3 ✎ Số ?



5 l






□ l



□ l

4 Mỗi đồ vật đựng số lít nước ứng với các ca nước bên cạnh (như hình vẽ).



a) Số ?

Đồ vật	Ấm	Bình	Can	Xô
Số lít nước	4			

b) Viết tên các đồ vật theo thứ tự từ đựng ít nước nhất đến đựng nhiều nước nhất:

.....

5 Trong can to có 15 l nước mắm. Mẹ đã rót nước mắm từ can to vào đầy một can 5 l. Hỏi trong can to còn lại bao nhiêu lít nước mắm?

Bài giải
