

BÀI 17

THỰC HÀNH VÀ TRẢI NGHIỆM VỚI CÁC ĐƠN VỊ KI-LÔ-GAM, LÍT

Tiết 1

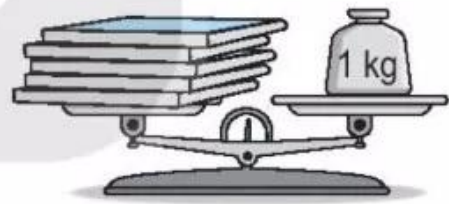
1 a) Em cầm quyển sách, rồi cầm cái bút chì.

Em ước lượng xem quyển sách nặng hơn hay nhẹ hơn bút chì rồi viết "nặng hơn", "nhẹ hơn" thích hợp vào chỗ chấm.

Quyển sách bút chì.

Bút chì quyển sách.


b) Quan sát hình bên rồi viết "nặng hơn", "nhẹ hơn" hoặc "cân nặng" thích hợp vào chỗ chấm.



5 quyển sách 1 kg.

2 Em ước lượng vật nào nặng hơn, vật nào nhẹ hơn, rồi viết "nặng hơn", "nhẹ hơn" thích hợp vào chỗ chấm.


a)



Quyển sách bút mực.

Bút mực quyển sách.


b)



Bút chì hộp bút.

Hộp bút bút chì.

3 Quan sát tranh rồi viết số thích hợp vào chỗ chấm.



a) Túi cà phê cân nặng kg. Túi gạo cân nặng kg.

b) Túi gạo và túi cà phê cân nặng tất cả kg.

c) Túi gạo nặng hơn túi cà phê kg.

Tiết 2

1 Quan sát tranh rồi viết tiếp vào chỗ chấm cho thích hợp.



Tên	Việt	Rô-bốt	Nam	Mai
Cân nặng	24 kg kg kg kg

Bạn cân nặng nhất. Bạn cân nhẹ nhất.

- 2) Bằng cân đĩa, cân đồng hồ, cân bàn đồng hồ, hãy tập cân một số đồ vật xung quanh em rồi ghi kết quả cân nặng các đồ vật đó.

.....

.....

.....

- 3) Viết số thích hợp vào chỗ chấm.

Mỗi bình A và B chứa được số cốc nước như hình dưới đây.



- a) Bình A chứa được cốc nước.
Bình B chứa được cốc nước.
- b) Cả hai bình chứa được cốc nước.
- c) Bình A chứa được nhiều hơn bình B cốc nước.

- 4) Viết số thích hợp vào chỗ chấm.

Dùng ca 1 l mức nước ở trong thùng đổ vào xô đỏ 4 ca đầy nước và vào xô xanh 5 ca đầy nước. Khi đó:

- a) Xô đỏ có l nước.
- b) Xô xanh có l nước.