

# BÀI 19

# PHÉP CỘNG (có nhớ) SỐ CÓ HAI CHỮ SỐ VỚI SỐ CÓ MỘT CHỮ SỐ

## Tiết 1

1 Tính.

$$\begin{array}{r} 34 \\ + 7 \\ \hline \dots \end{array}$$

$$\begin{array}{r} 82 \\ + 9 \\ \hline \dots \end{array}$$

$$\begin{array}{r} 16 \\ + 5 \\ \hline \dots \end{array}$$

$$\begin{array}{r} 48 \\ + 3 \\ \hline \dots \end{array}$$

2 Đặt tính rồi tính.

$76 + 5$

.....

.....

.....

$87 + 4$

.....

.....

.....

$82 + 8$

.....

.....

.....

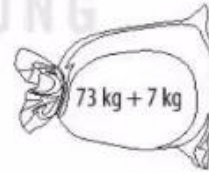
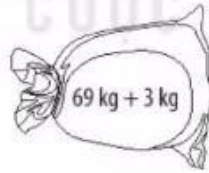
$39 + 9$

.....

.....

.....

3 Kết quả của phép tính ghi trên mỗi bao gạo là cân nặng của bao đó. Tô màu cam vào bao gạo nặng nhất, màu xanh vào bao gạo nhẹ nhất và màu vàng vào bao gạo còn lại.



## Tiết 2

1 Đặt tính rồi tính.

$46 + 4$

.....

.....

.....

$63 + 7$

.....

.....

.....

$25 + 7$

.....

.....

.....


$15 + 9$

.....

.....

.....

2 Nối phép tính với kết quả của phép tính đó.



Bài giải

3 Trong hộp bút có 24 cái bút chì và 6 cái bút mực. Hỏi trong hộp có tất cả bao nhiêu cái bút?



4 Số ?



### Tiết 3

1 Đặt tính rồi tính.

$78 + 6$

$69 + 3$

$66 + 6$

$55 + 8$

.....

.....

.....

.....

.....

.....

.....

.....

.....


.....

.....

.....

- 2 ✎ Buổi sáng, bác Lâm đánh bắt được 29 kg cá. Buổi chiều, bác Lâm đánh bắt được hơn buổi sáng 6 kg cá. Hỏi buổi chiều, bác Lâm đánh bắt được bao nhiêu ki-lô-gam cá?

Bài giải



- 3 ✎ Tính.

$$37 + 8 = \dots$$

$$74 + 9 = \dots$$

$$63 + 7 = \dots$$

$$55 + 5 = \dots$$

- 4 ✎ Tính.

$$a) 25 + 5 + 9 = \dots$$

$$b) 46 + 7 + 3 = \dots$$

- 5 ✎ Bạn nhím cần đến khu rừng thông. Em hãy tô màu con đường bạn nhím đi rồi viết số thích hợp vào chỗ chấm.



Tổng các số trên con đường nhím đi là:  $\dots + \dots + \dots = \dots$