

BÀI 20

PHÉP CỘNG (có nhớ) SỐ CÓ HAI CHỮ SỐ VỚI SỐ CÓ HAI CHỮ SỐ

Tiết 1

1 Tính.

$$\begin{array}{r} 35 \\ + 17 \\ \hline \dots \\ \dots \end{array}$$

$$\begin{array}{r} 29 \\ + 11 \\ \hline \dots \\ \dots \end{array}$$

$$\begin{array}{r} 68 \\ + 23 \\ \hline \dots \\ \dots \end{array}$$

$$\begin{array}{r} 79 \\ + 12 \\ \hline \dots \\ \dots \end{array}$$

2 Đặt tính rồi tính.

$75 + 16$

$59 + 17$

$24 + 66$

$33 + 45$

.....
.....
.....

.....
.....
.....

.....
.....
.....

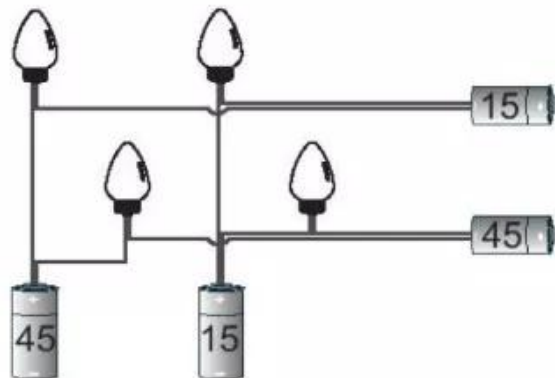
.....
.....
.....

3 Viết phép tính đúng thu được sau khi chuyển một que tính ở kết quả trong hình bên:

$43 + 17 = 66$

.....
.....

4 Tô màu vàng cho những bóng đèn phát sáng. Biết bóng đèn chỉ phát sáng nếu nó được nối bởi hai số có tổng bằng 60.



Tiết 2

1 Đặt tính rồi tính.

$45 + 7$

.....

.....

.....

$19 + 79$

.....

.....

.....

$34 + 58$

.....

.....

.....

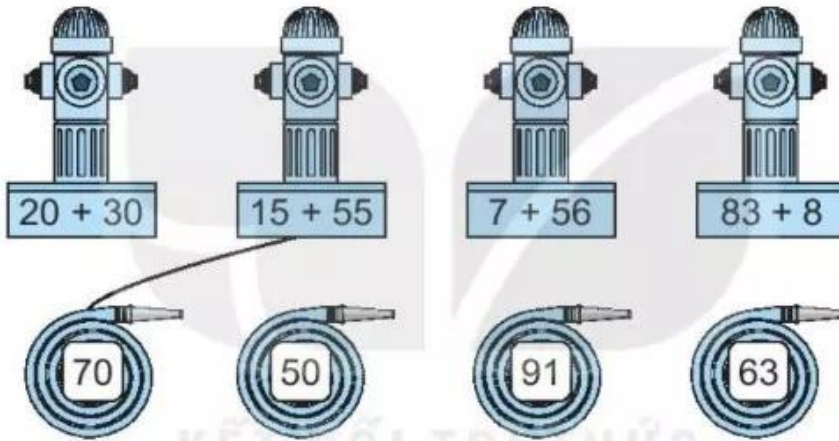
$37 + 53$

.....

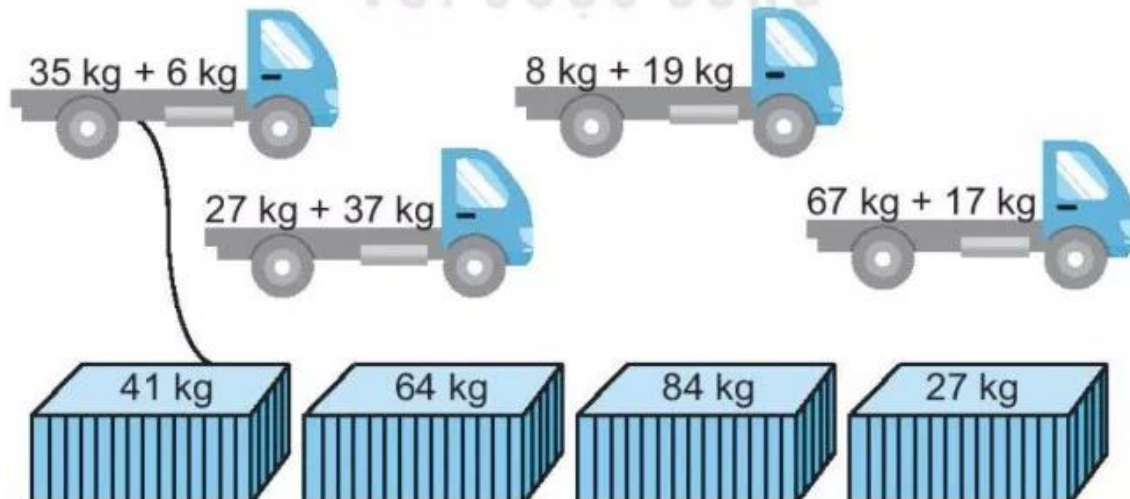
.....

.....

2 Nối dây cứu hỏa với trụ cứu hỏa thích hợp (theo mẫu).




3 Nối (theo mẫu).

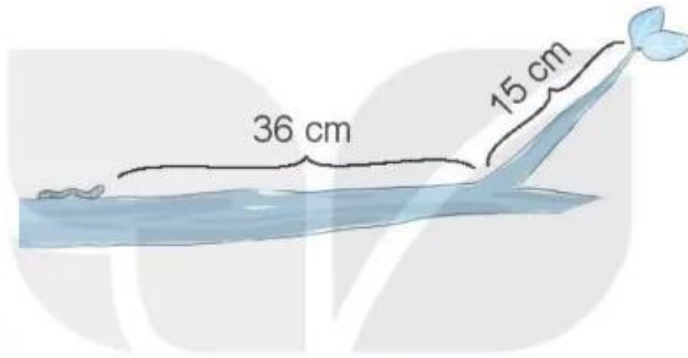


- 4 Buổi sáng, cô Hoa thu hoạch được 17 l mật ong. Buổi chiều, cô Hoa thu hoạch được 23 l. Hỏi ngày hôm đó cô Hoa thu hoạch được bao nhiêu lít mật ong?

Bài giải



- 5 Viết số thích hợp vào chỗ chấm.
Con sâu phải bò cm để đến chiếc lá.



Tiết 3

- 1 Đặt tính rồi tính.

$$25 + 37$$

$$37 + 25$$

$$18 + 43$$

$$43 + 18$$

.....

.....

.....

.....

.....

.....

.....

.....

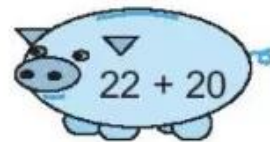

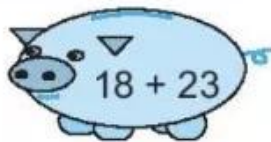
.....

.....

.....

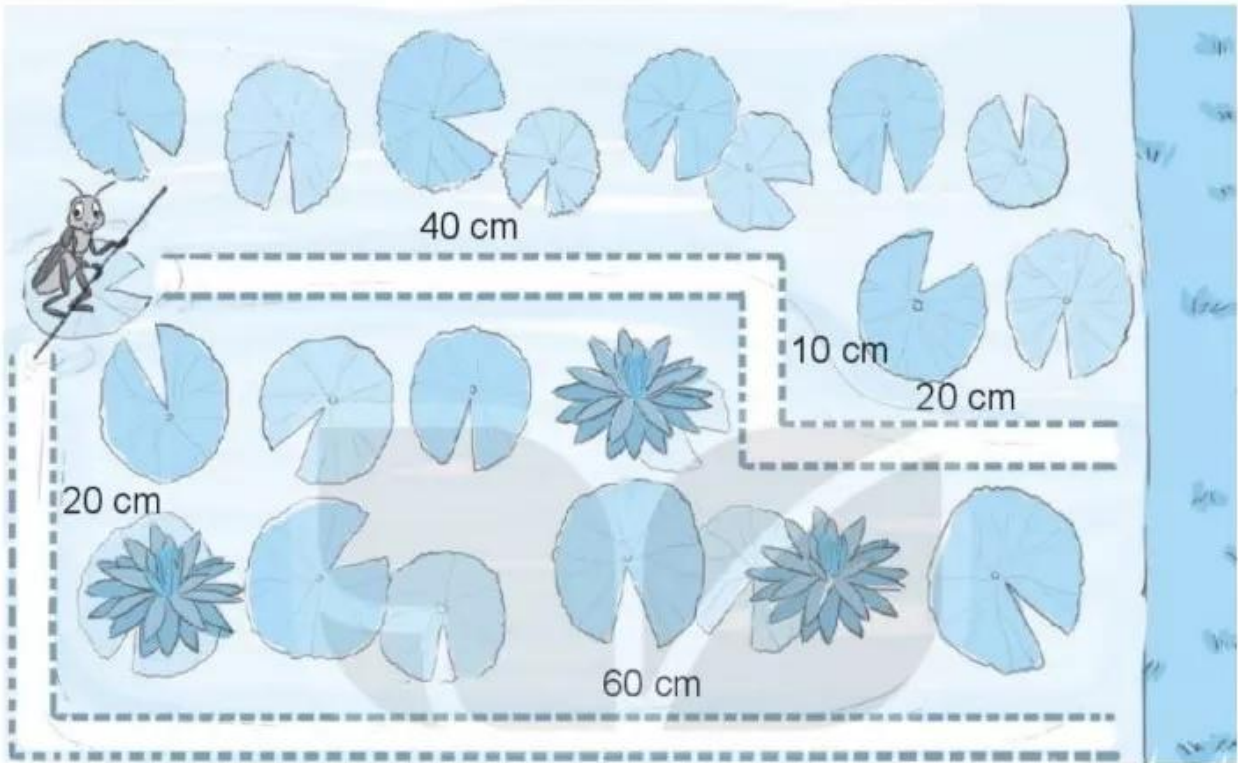
.....

- 2 Viết vào chỗ chấm cho thích hợp.



Kết quả các phép tính ghi trên heo đất được viết theo thứ tự từ bé đến lớn là:

- 3 Có hai con đường để dế mèn đi đến bờ cỏ (như hình vẽ). Tô màu xanh con đường ngắn hơn và màu đỏ con đường còn lại.



- 4 Tính.

$$35 + 15 + 6 = \dots$$

$$29 + 11 + 4 = \dots$$

$$68 + 22 + 7 = \dots$$

$$47 + 33 + 9 = \dots$$

Tiết 4

- 1 Tính.


$$73 + 7 = \dots$$

$$64 + 26 = \dots$$

$$15 + 38 = \dots$$

$$43 + 18 = \dots$$

2 Nói (theo mẫu).



3 Viết số thích hợp vào chỗ trống.



4 Nhà bạn Hoa nuôi một đàn thỏ có 18 con. Mùa hè vừa rồi, đàn thỏ đẻ thêm 12 con thỏ nữa. Hỏi nhà bạn Hoa có tất cả bao nhiêu con thỏ?

Bài giải

