

BÀI 22

PHÉP TRỪ (có nhớ) SỐ CÓ HAI CHỮ SỐ CHO SỐ CÓ MỘT CHỮ SỐ

Tiết 1

1 Tính.

$$\begin{array}{r} 54 \\ - 8 \\ \hline \end{array}$$

.....

$$\begin{array}{r} 40 \\ - 9 \\ \hline \end{array}$$

.....

$$\begin{array}{r} 72 \\ - 4 \\ \hline \end{array}$$

.....

$$\begin{array}{r} 81 \\ - 3 \\ \hline \end{array}$$

.....

2 Đặt tính rồi tính.

$73 - 6$

.....
.....
.....

$22 - 4$

.....
.....
.....

$34 - 7$

.....
.....
.....

$60 - 4$


.....
.....
.....

3 Nói (theo mẫu).



4 Trên bến có 52 chiếc thuyền. Lúc sau, có 8 chiếc thuyền rời bến. Hỏi trên bến còn lại bao nhiêu chiếc thuyền?

Bài giải



Tiết 2

1 Đặt tính rồi tính.

$80 - 6$

.....

.....

.....

$43 - 5$

.....

.....

.....

$57 - 8$

.....

.....

.....


$73 - 7$

.....

.....

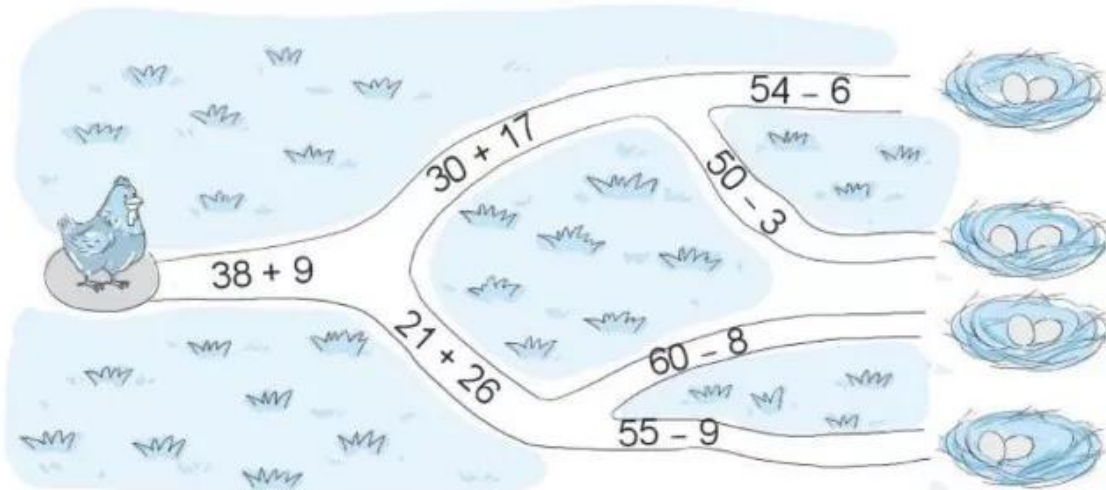
.....

2 a) Nối mỗi con ong với bông hoa thích hợp (theo mẫu).




b) Tô màu vàng vào bông hoa ghi số lớn nhất, màu xanh vào bông hoa ghi số bé nhất và màu đỏ vào các bông hoa còn lại.

3 Đường đến ổ rơm của gà mái mơ đi qua ba phép tính có kết quả bằng nhau. Hãy tô màu cho đường đi đến ổ rơm của gà mái mơ.



Bài giải

4 Cây mít nhà bà có 32 quả. Có 5 quả mít chín và được bà lấy xuống. Hỏi trên cây còn lại bao nhiêu quả mít?



Tiết 3

1 Đặt tính rồi tính.

$45 - 6$

$20 - 9$

$72 - 4$

$80 - 7$

.....

.....

.....

.....

.....

.....

.....

.....

.....

.....

.....

.....

2 Viết số thích hợp vào chỗ trống.

a)  $+ 8$  $- 3$ 

b)  $- 2$  $+ 8$ 

3 Khoanh vào chữ đặt trước câu trả lời đúng.

Bạn chim sẽ vào tổ ghi phép tính có kết quả lớn nhất. Bạn chim sẽ vào tổ nào?



A.  $50 - 5$

B.  $55 - 9$


C.  $51 - 7$

- 4 ✎ Viết mỗi số 40, 50 và 70 vào một ô trống để được các phép tính đúng.

$$90 - \text{hoa} = 40$$

$$\text{hoa} - \text{đĩa} = 30$$

- 5 ✎ Chó nặng 25 kg.
Chó nặng hơn khi
7 kg. Hỏi khi nặng
bao nhiêu ki-lô-gam?



Tiết 4

- 1 ✎ Số ?

Số bị trừ	52	77	23	24	70
Số trừ	4	8	6	9	30
Hiệu					

- 2 ✎ Mỗi chiếc ví sẽ được đặt vào chiếc túi ghi phép tính có kết quả là số ghi trên chiếc ví đó. Em hãy nối để tìm túi đựng cho mỗi chiếc ví.

19

86

51



3/ Khoanh vào chữ đặt trước câu trả lời đúng.

a) Kết quả tính $50 + 20 - 7$ là:

A. 53

B. 63

C. 73

b) Kết quả tính $42 - 5 + 18$ là:


A. 35

B. 45

C. 55

4/ Mi vẽ một bức tranh có 33 bông hoa màu đỏ và màu vàng, trong đó có 9 bông hoa màu đỏ. Hỏi có bao nhiêu bông hoa được Mi tô màu vàng?

Bài giải



5/ Châu châu bật nhảy đến các bụi cỏ ghi số theo thứ tự các số là kết quả của các phép tính dưới đây.



Em hãy tô màu các bụi cỏ mà châu châu nhảy đến.

