

BÀI 23

PHÉP TRỪ (có nhớ) SỐ CÓ HAI CHỮ SỐ CHO SỐ CÓ HAI CHỮ SỐ

Tiết 1

1 Tính.

$$\begin{array}{r} 71 \\ - 25 \\ \hline \end{array}$$

.....

$$\begin{array}{r} 60 \\ - 18 \\ \hline \end{array}$$

.....

$$\begin{array}{r} 82 \\ - 45 \\ \hline \end{array}$$

.....

$$\begin{array}{r} 35 \\ - 29 \\ \hline \end{array}$$

.....

2 a) Đặt tính rồi tính.

$52 - 25$

.....

.....

.....

$83 - 38$

.....

.....

.....

$50 - 24$

.....

.....

.....

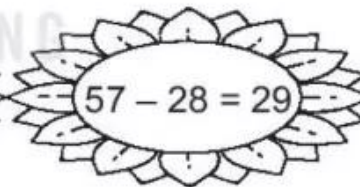
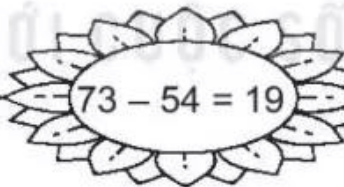
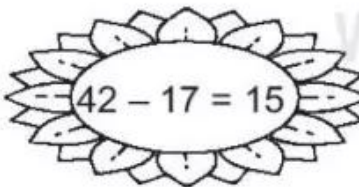
$53 - 17$

.....

.....

.....

b) Tô màu vào các bông hoa ghi phép tính đúng.



3 Trên cành cây có 30 con chim. Lúc sau có 14 con chim bay đi. Hỏi trên cành cây còn lại bao nhiêu con chim?

Bài giải



Tiết 2

1 Đặt tính rồi tính.

$36 - 18$

$52 - 34$

$80 - 37$

$70 - 52$

.....

.....

.....

.....

.....

.....

.....

.....

.....

.....

.....

.....

2 Quan sát hình dưới đây.

$30 - 6 = 24$

$41 - 9 = 22$

$60 - 12 = 48$

$72 - 15 = 67$

a) Tô màu vào các hình ghi phép tính đúng.


b) Viết tiếp vào chỗ chấm cho thích hợp (theo mẫu).

Các hình ghi phép tính đúng là: hình vuông;.....

.....

3 Trong bến xe có 40 ô tô. Lúc sau có 16 ô tô rời bến. Hỏi trong bến còn lại bao nhiêu ô tô?

Bài giải



4 >; <; = ?

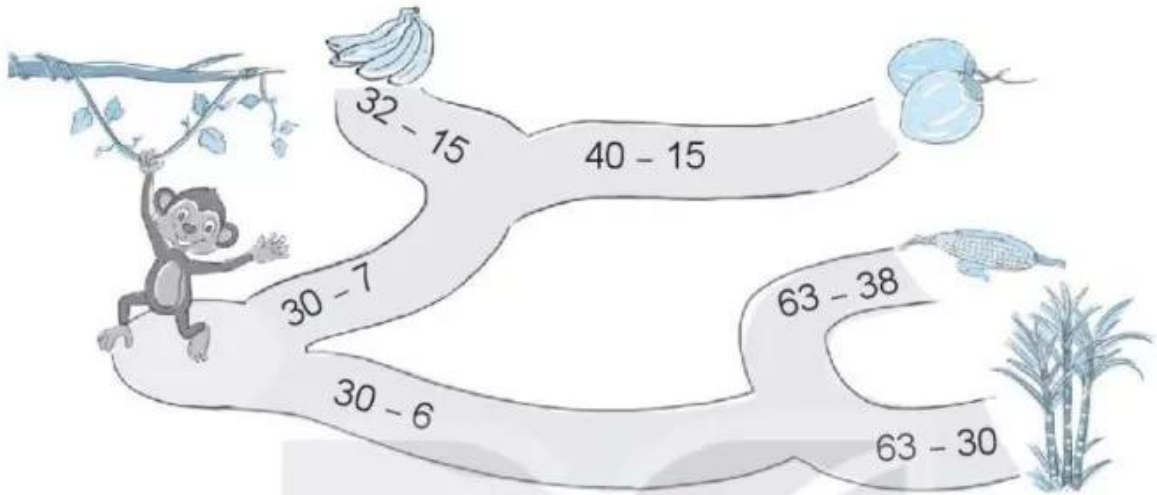
a) $42 - 15$ $20 + 10$

$70 - 26$ $20 + 30$

b) $62 - 25$ $50 - 25$

$51 - 16$ $44 - 16$

- 5 Tại mỗi ngã rẽ, bạn khi sẽ đi theo con đường ghi phép tính có kết quả nhỏ hơn. Khoanh vào món ăn mà bạn khi sẽ đến.



Tiết 3

- 1 Tính nhẩm.

$100 - 20 = \dots\dots$ $100 - 60 = \dots\dots$ $100 - 10 = \dots\dots$

- 2 Xe máy chở 70 kg hàng. Xe đạp chở ít hơn xe máy 55 kg hàng. Hỏi xe đạp chở bao nhiêu ki-lô-gam hàng?

Bài giải



3 Quan sát hình dưới đây.

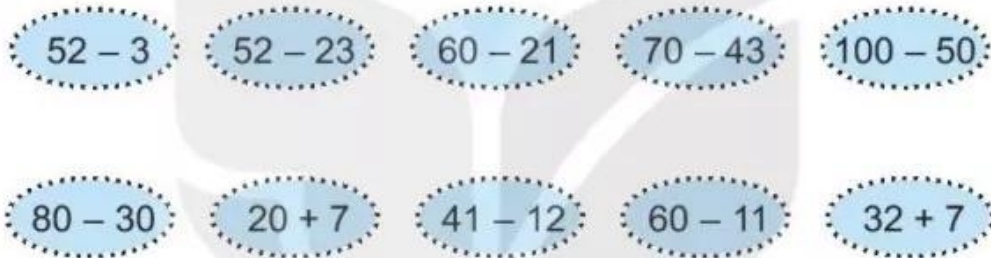


a) Viết số thích hợp vào chỗ chấm.

Khối lập phương ghi phép tính có kết quả bằng

b) Tô màu vàng vào hình khối ghi phép tính có kết quả lớn nhất, màu đỏ vào hình khối ghi phép tính có kết quả bé nhất.

4 Nối hai phép tính có kết quả bằng nhau.



Tiết 4

1 Đặt tính rồi tính.

$51 - 25$	$72 - 36$	$96 - 48$	$70 - 35$
.....
.....
.....

2 Viết chữ số thích hợp vào ô trống.

$\begin{array}{r} 5 \square \\ - 25 \\ \hline 26 \end{array}$	$\begin{array}{r} 72 \\ - \square 7 \\ \hline 3\square \end{array}$	$\begin{array}{r} \square 0 \\ - 38 \\ \hline 3\square \end{array}$	$\begin{array}{r} \square 6 \\ - 1\square \\ \hline 29 \end{array}$
---	---	---	---

- 3 ✎ Một toà nhà có 90 cửa sổ. Có 52 cửa sổ đang mở. Hỏi có bao nhiêu cửa sổ không mở?

Bài giải



- 4 ✎ Khoanh vào chữ đặt trước câu trả lời đúng.

a) Kết quả tính $42 + 28 - 26$ là:

A. 34 B. 44 C. 54

b) Kết quả tính $42 - 34 + 62$ là:

A. 60 B. 70 C. 80

- 5 ✎ Hãy giúp gà con tìm mẹ, biết rằng gà mẹ đang đứng ở ô ghi phép tính có kết quả lớn nhất. Tô màu vàng cho gà mẹ và gà con.



Tiết 5

- 1 ✎ Số ?

Số bị trừ	46	60	70	51	90
Số trừ	19	27	32	15	20
Hiệu	27				

