

BÀI 24

LUYỆN TẬP CHUNG

Tiết 1

1 Đặt tính rồi tính.

$35 - 9$

$41 - 6$

$70 - 34$

$55 - 26$

.....

.....

.....

.....

.....

.....

.....

.....

.....

.....

.....


.....

2 Số ?



Bài giải

3 Rô-bốt cần leo qua 52 bậc cầu thang. Rô-bốt đã leo được 19 bậc. Hỏi Rô-bốt cần leo thêm bao nhiêu bậc cầu thang nữa?



4 Dựa vào câu chuyện của sóc, chuột và nhím, em hãy khoanh vào chữ đặt trước câu trả lời đúng.




Phép tính nào sau đây có kết quả là số hạt dẻ của sóc?

A. $73 - 33$

B. $61 - 26$

C. $83 - 45$

5 ✎ Viết tiếp vào chỗ chấm cho thích hợp.



a) Ghép hai trong ba thẻ số trên được các số có hai chữ số lớn hơn 40 và bé hơn 50 là:

.....

b) Tìm tổng và hiệu của số tìm được ở câu a với số trên tám thẻ còn lại.

.....


Tiết 2

1 ✎ Tính.

$$25 + 65 - 40 = \dots\dots\dots 100 - 50 - 25 = \dots\dots\dots$$

2 ✎ Viết tiếp vào chỗ chấm cho thích hợp.

Chuồn chuồn bay theo hướng sợi dây dưới đây, xuất phát từ mũi tên.




a) Chuồn chuồn sẽ gặp bông hoa đầu tiên ghi số và gặp bông hoa sau cùng ghi số

b) Tính tổng các số trên ba bông hoa mà chuồn chuồn đã gặp.

.....

- 3 Một cửa hàng, buổi sáng bán được 52 l nước mắm, buổi chiều bán được 43 l nước mắm. Hỏi cả hai buổi cửa hàng bán được bao nhiêu lít nước mắm?

Bài giải



- 4 Viết chữ số thích hợp vào chỗ chấm.

$$70 - 29 > 4...$$

$$81 - 23 < 5...$$

- 5 Viết tiếp vào chỗ chấm cho thích hợp.

Từ sáu số 30, 52, 18, 5, 25, 34 lập được các phép trừ là:

$$30 - 5 = 25;$$

.....

.....

.....