

# BÀI 25

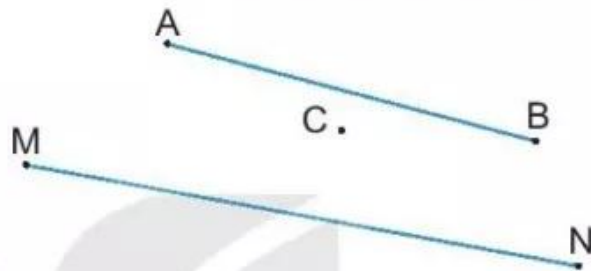
# ĐIỂM, ĐOẠN THẲNG, ĐƯỜNG THẲNG, ĐƯỜNG CONG, BA ĐIỂM THẲNG HÀNG

## Tiết 1

1) Viết tiếp vào chỗ chấm cho thích hợp.

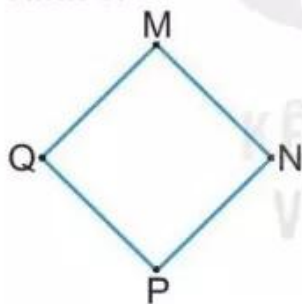
a) Trong hình vẽ bên có các điểm là: .....

b) Trong hình vẽ có các đoạn thẳng là: .....



2) Viết vào chỗ chấm (theo mẫu).

Hình 1:



Hình 2:

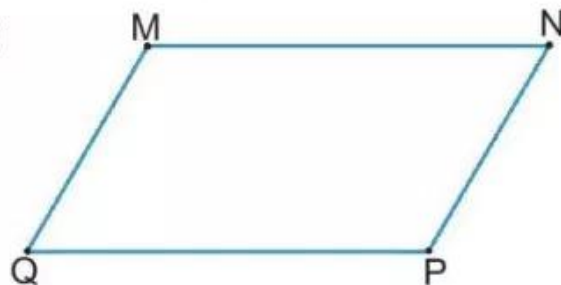


	Hình 1	Hình 2
Tên các đoạn thẳng	MN, .....	.....

3) Đo độ dài các đoạn thẳng rồi viết số thích hợp vào chỗ chấm.

Đoạn thẳng MN dài ..... cm.

Đoạn thẳng NP dài ..... cm.



4 Cho hình vẽ:



- a) Đo độ dài các đoạn thẳng rồi viết số thích hợp vào chỗ chấm.  
Đoạn thẳng AB dài ..... cm.      Đoạn thẳng BC dài ..... cm.  
Đoạn thẳng CD dài ..... cm.      Đoạn thẳng DE dài ..... cm.
- b) Viết tiếp vào chỗ chấm cho thích hợp.  
Đoạn thẳng ..... dài nhất.      Đoạn thẳng ..... ngắn nhất.  
Đoạn thẳng AB và đoạn thẳng ..... dài bằng nhau.

## Tiết 2

1 Viết tiếp vào chỗ chấm cho thích hợp.



Trong hình vẽ trên có:

- a) Đường thẳng: .....
- b) Đường cong: .....

2 Đ, S ?

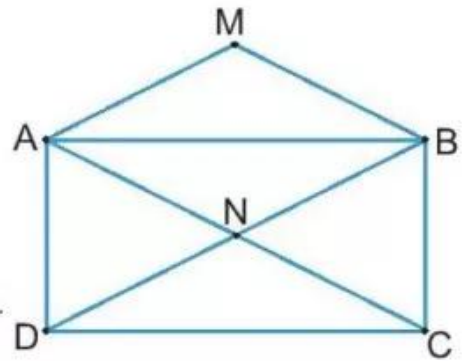


Trong hình vẽ trên:

- Ba điểm D, E, G thẳng hàng.       Ba điểm A, B, C thẳng hàng.
- Ba điểm M, N, P thẳng hàng.

3 ✎ Viết tiếp vào chỗ chấm cho thích hợp.

Ba điểm thẳng hàng trong hình vẽ bên là: A, N, C và .....



4 ✎ Quan sát tranh rồi nối để có câu hợp lí.



Vạch kẻ đường

có dạng đường cong.

Ba cột đèn

có dạng đường thẳng.

Vệt mây do máy bay tạo ra

thẳng hàng.

5 ✎ a) Vẽ đường thẳng AB. Vẽ đoạn thẳng MN.

b) Vẽ điểm D để có ba điểm C, D, E thẳng hàng.

