

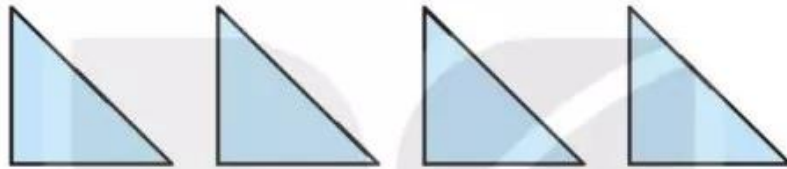
# BÀI 27

# THỰC HÀNH GẤP, CẮT, GHÉP, XẾP HÌNH. VẼ ĐOẠN THẲNG

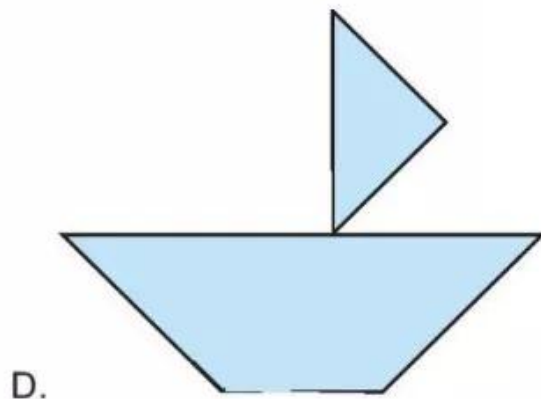
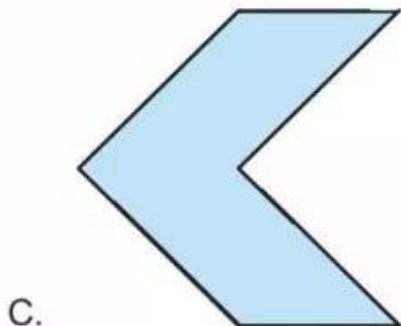
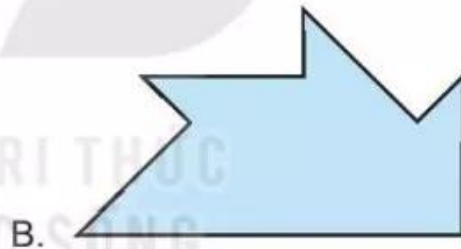
## Tiết 1

1 Khoanh vào chữ đặt trước đáp án đúng.

Mai có 4 hình tam giác giống nhau như sau:

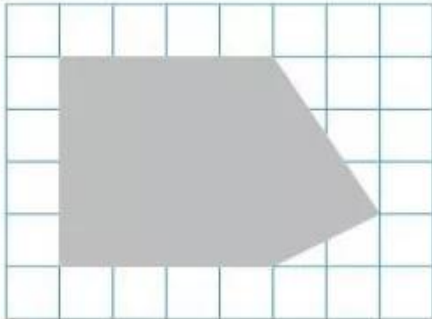


Dùng 4 hình đó, Mai không thể xếp được hình nào dưới đây?

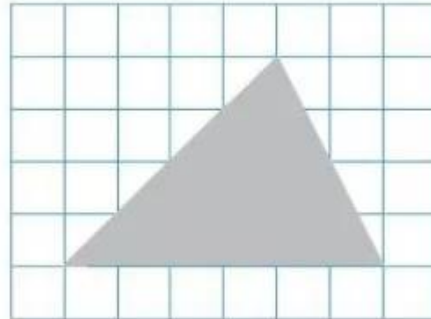


2 ✎ Kẻ thêm một đoạn thẳng trong mỗi hình dưới đây để khi cắt theo đường kẻ đó, ta sẽ nhận được 1 hình tứ giác và 1 hình tam giác.

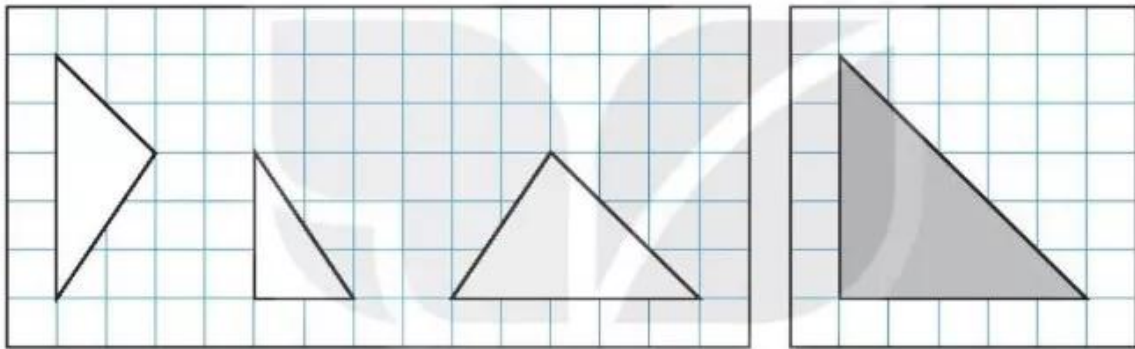
a)



b)



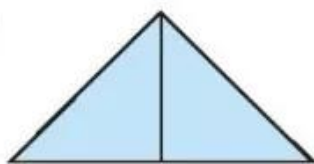
3 ✎ Tô màu hai hình ở cột bên trái ghép được hình ở cột bên phải.



4 ✎ Viết số thích hợp vào chỗ chấm (theo mẫu).

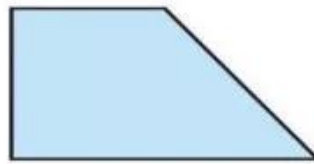
Dùng các hình tam giác nhỏ như nhau để ghép được các hình sau đây. Mỗi hình được ghép từ bao nhiêu hình tam giác như vậy?

a)




2

b)



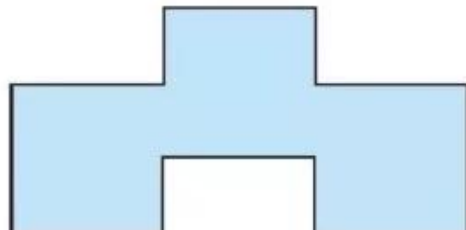
.....

c)



.....

d)



.....

## Tiết 2

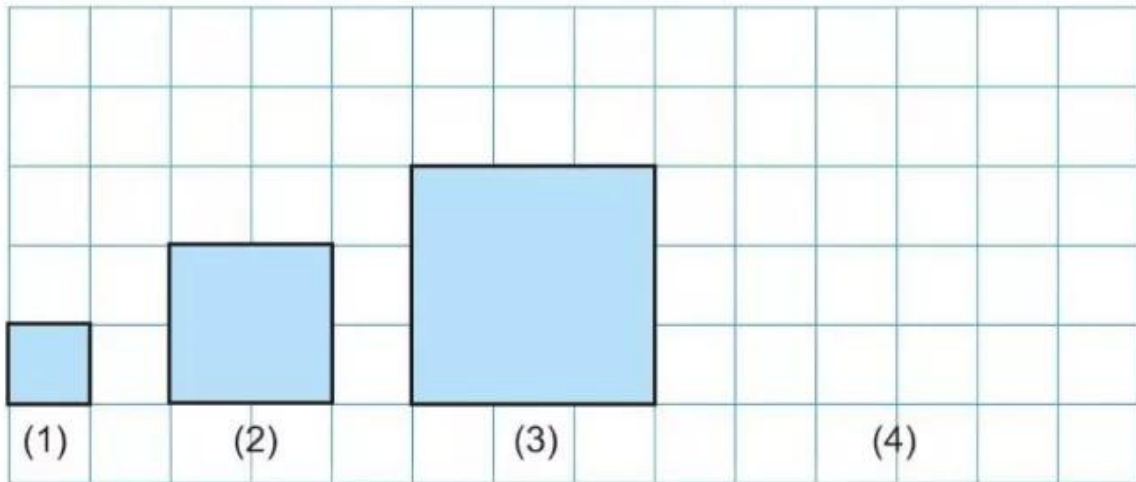
1 ✎ Vẽ các đoạn thẳng: AB có độ dài 6 cm và CD có độ dài 10 cm.

2 ✎ Cho hình chữ nhật MNPQ.



Đo độ dài các đoạn thẳng QP và MQ rồi vẽ lại các đoạn thẳng đó.

3 ✎ Vẽ hình vuông tiếp theo vào vị trí (4) rồi viết số thích hợp vào chỗ chấm.



1 cm

Hình vuông (4) có cạnh dài ..... cm.

4 ✎ Khoanh vào chữ đặt dưới câu trả lời đúng.

Con đường dài nhất đưa chú chó đến khúc xương là con đường nào?

